

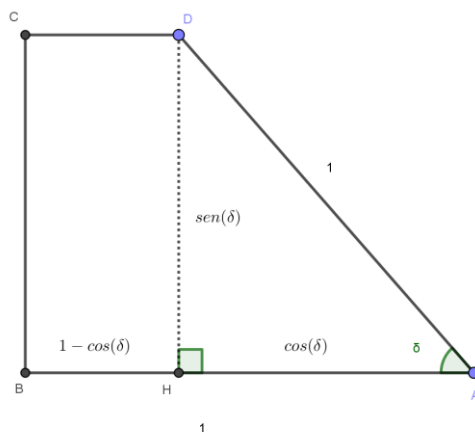
Scuole italiane all'estero (Americhe boreale suppletiva) 2010

PROBLEMA 2

Il trapezio rettangolo $ABCD$ ha la base maggiore AB e il lato obliquo AD entrambi di lunghezza 1.

a)

Si esprima il perimetro del trapezio in funzione dell'angolo acuto $\widehat{DAB} = \delta$.



Risulta: $BC = DH = \text{sen}(\delta)$, $CD = BH = 1 - \cos(\delta)$, quindi:

$$2p(ABCD) = 2 + \text{sen}(\delta) + 1 - \cos(\delta) = 3 + \text{sen}(\delta) - \cos(\delta) = 2p(ABCD), \quad 0 < \delta < \frac{\pi}{2}$$

b)

Si studi la funzione $f(\delta)$ ottenuta e se ne tracci il grafico nell'intervallo di definizione.

$$f(\delta) = 3 + \text{sen}(\delta) - \cos(\delta), \quad 0 < \delta < \frac{\pi}{2}$$

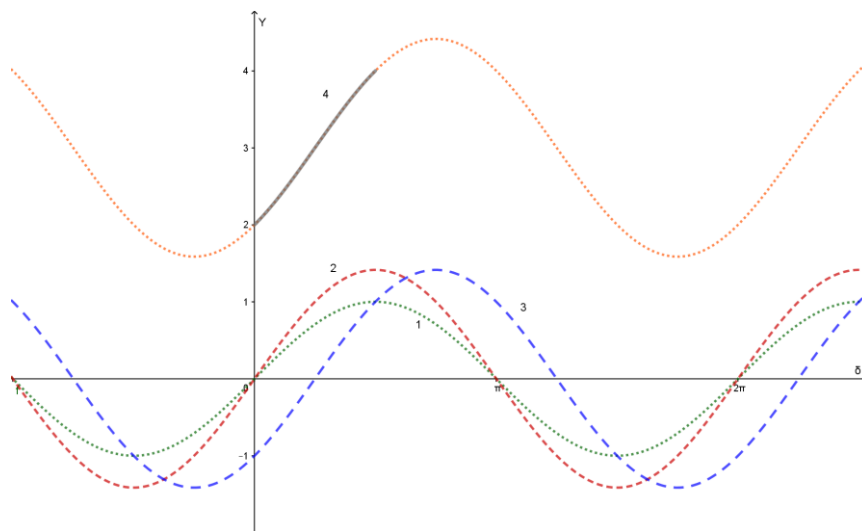
La funzione può essere espressa nella forma:

$$y = f(\delta) = 3 + \text{sen}(\delta) - \cos(\delta) = 3 + \sqrt{2} \text{sen}\left(\delta - \frac{\pi}{4}\right) = y$$

Il grafico di questa funzione si ottiene dal grafico di $y = \text{sen}(\delta)$ mediante le seguenti trasformazioni geometriche:

- 1) $y = \text{sen}(\delta)$
- 2) $y = \sqrt{2} \text{sen}(\delta)$: dilatazione verticale di fattore $\sqrt{2}$.
- 3) $y = \sqrt{2} \text{sen}\left(\delta - \frac{\pi}{4}\right)$: traslazione di vettore $\vec{v} = \left(\frac{\pi}{4}; 0\right)$
- 4) $y = 3 + \sqrt{2} \text{sen}\left(\delta - \frac{\pi}{4}\right)$: traslazione di vettore $\vec{v} = (0; 3)$

Indichiamo i vari passi nella figura seguente:



c)

Si determini il trapezio di perimetro massimo.

Il perimetro del trapezio è massimo quando è massima la funzione

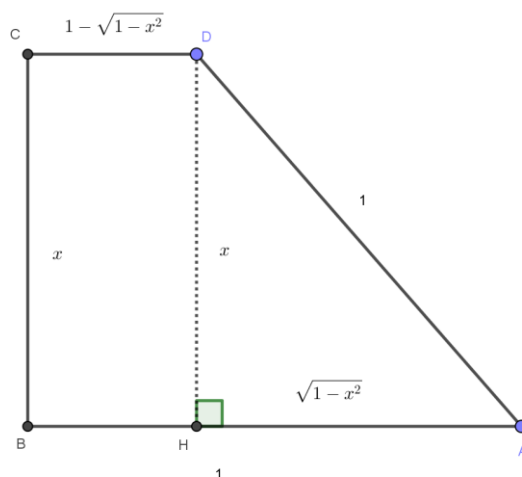
$$f(\delta) = 3 + \sqrt{2} \text{sen}\left(\delta - \frac{\pi}{4}\right), \quad 0 < \delta < \frac{\pi}{2}$$

Se consideriamo l'intervallo $0 < \delta < \frac{\pi}{2}$ (come è giusto, essendo l'angolo δ acuto), il perimetro non ammette massimo (la funzione è sempre crescente nell'intervallo in questione).

Se invece prendiamo come intervallo $0 \leq \delta \leq \frac{\pi}{2}$, il perimetro è massimo quando $\delta = \frac{\pi}{2}$, ed il perimetro massimo vale $3 + \sqrt{2} \cdot \frac{\sqrt{2}}{2} = 4$: il trapezio diventa un quadrato di lato 1.

d)

Si affronti il problema di determinare il trapezio di perimetro massimo studiando la funzione $g(x)$ ove è $x = \overline{BC}$.



Se $x = BC$ risulta: $AH = \sqrt{1 - x^2}$, $CD = 1 - \sqrt{1 - x^2}$ quindi:

$$2p = g(x) = 2 + x + 1 - \sqrt{1 - x^2} = 3 + x - \sqrt{1 - x^2}, \text{ con } 0 \leq x \leq 1$$

(equivalente al caso precedentemente studiato considerando $0 \leq \delta \leq \frac{\pi}{2}$)

Dobbiamo quindi studiare il massimo della funzione

$$g(x) = 3 + x - \sqrt{1 - x^2}, \text{ con } 0 \leq x \leq 1$$

$$g'(x) = 1 + \frac{x}{\sqrt{1 - x^2}} \geq 0, \sqrt{1 - x^2} + x \geq 0 \text{ sempre se } 0 \leq x \leq 1.$$

La funzione è quindi sempre crescente nell'intervallo $[0; 1]$, pertanto il suo massimo si ha per $x=1$ (e risulta $2p = 4$, come trovato precedentemente): **il trapezio diventa un quadrato di lato 1.**

Con la collaborazione di Angela Santamaria