

Liceo della comunicazione 2010 – PROBLEMA 1

Sia λ la parabola d'equazione $f(x) = 1 + x^2$.

a)

Sia F il fuoco di λ e r la sua retta direttrice. Si determinino le coordinate di F e l'equazione di r .

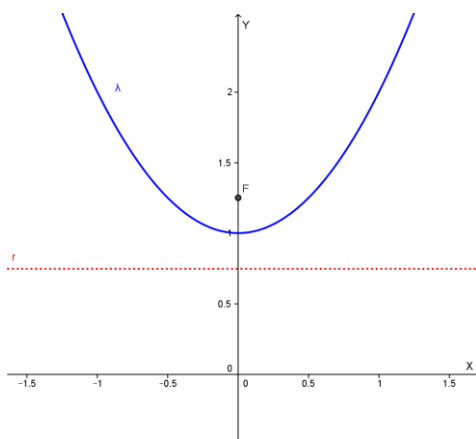
La parabola è del tipo $y = ax^2 + bx + c$ ed il fuoco ha le seguenti coordinate:

$$x_F = -\frac{b}{2a} = 0, \quad y_F = \frac{1 - \Delta}{4a} = \frac{5}{4}; \quad F = \left(0; \frac{5}{4}\right).$$

La direttrice r ha equazione:

$$y = \frac{-1 - \Delta}{4a} = \frac{3}{4}, \quad r: y = \frac{3}{4}$$

La parabola ha il seguente grafico:



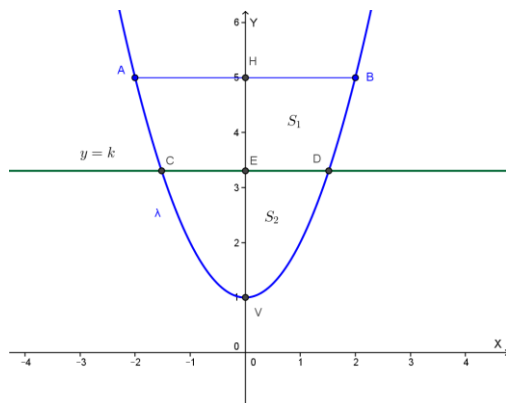
b)

Siano A e B i punti di λ di ordinata 5 e S il segmento parabolico di base AB . Si determini la retta $y = k$ che dimezza l'area di S .

I punti A e B hanno coordinate: $A = (-2; 5)$, $B = (2; 5)$.

Il segmento parabolico S di base AB (per il teorema di Archimede) ha area:

$$Area(S) = \frac{2}{3} \cdot AB \cdot VH = \frac{2}{3} (4)(4) = \frac{32}{3} u^2$$



Detti C e D i punti di intersezione fra la retta $y = k$ cerchiamo le loro ascisse:

$$x^2 + 1 = k, \quad x^2 = k - 1, \quad x = \pm\sqrt{k-1}, \quad \text{con } k \geq 1.$$

Risulta quindi: $CD = 2\sqrt{k-1}$ quindi il segmento parabolico di base CD ha area:

$$Area(S_2) = \frac{2}{3} \cdot CD \cdot VE = \frac{2}{3} (2\sqrt{k-1})(k-1)$$

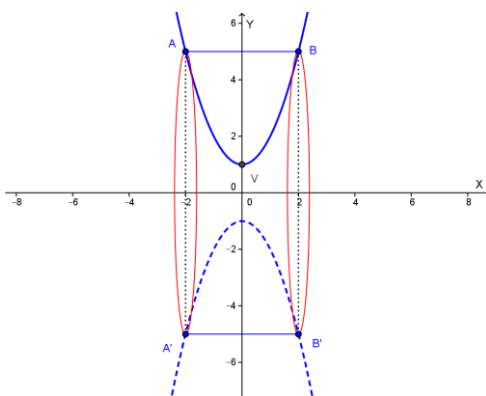
Siccome deve essere $Area(S_2) = Area(S_1) = \frac{1}{2} Area(S) = \frac{16}{3}$, si ha:

$$\frac{2}{3} (2\sqrt{k-1})(k-1) = \frac{16}{3}, \quad (\sqrt{k-1})(k-1) = 4, \quad (k-1)^3 = 16, \quad k-1 = \sqrt[3]{16},$$

$$k = 1 + 2\sqrt[3]{2}.$$

c)

Si determini il volume del solido generato dalla rotazione di S intorno all'asse x .



Ricordiamo che le coordinate di B sono: $B = (2; 5)$.

Il volume richiesto è il doppio del volume che si ottiene sottraendo al cilindro con raggio di base 5 e altezza 2 il volume ottenuto dalla rotazione attorno all'asse x della parte di S situata nel primo quadrante. Quindi:

$$V = 2 \left[\pi \cdot 25 \cdot 2 - \pi \int_0^2 (x^2 + 1)^2 dx \right] = 2 \left[50 \pi - \pi \int_0^2 (x^4 + 2x^2 + 1) dx \right] =$$

$$= 2 \left[50 \pi - \pi \left[\frac{x^5}{5} + \frac{2}{3} x^3 + x \right]_0^2 \right] = 2 \left[50 \pi - \pi \left[\frac{32}{5} + \frac{16}{3} + 2 \right] \right] = \frac{1088}{15} \pi u^3 \cong 228 u^3 = V$$

d)

Si calcoli $\int_0^1 \frac{dx}{f(x)}$ e lo si interpreti geometricamente.

Risulta:

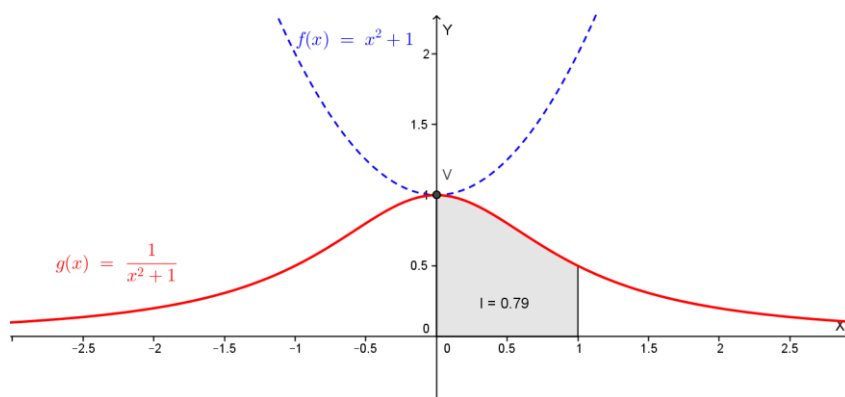
$$\int_0^1 \frac{dx}{f(x)} = \int_0^1 \frac{dx}{1+x^2} = [\arctg(x)]_0^1 = \frac{\pi}{4}$$

L'integrale richiesto rappresenta l'area della regione di piano delimitata dalla curva di equazione $y = \frac{1}{1+x^2}$, dall'asse x e dalle rette $x=0$ e $x=1$.

La funzione di equazione

$$y = \frac{1}{1+x^2} = \frac{1}{f(x)}$$

si può ottenere facilmente a partire dal grafico della parabola di partenza come funzione reciproca:



Con la collaborazione di Angela Santamaria