

ORDINAMENTO 2002 - PROBLEMA 2

Detta a una lunghezza nota non nulla ed x una lunghezza incognita, si considerino le seguenti lunghezze:

$$[1] \quad a+2x, \quad a-x, \quad 2a-x$$

a)

Determinare per quali valori di x le tre lunghezze si possono considerare quelle dei lati di un triangolo non degenere.

x deve essere non negativo ed i tre valori indicati devono essere positivi:

$$\begin{cases} a + 2x > 0 \\ a - x > 0 \\ 2a - x > 0 \\ x \geq 0 \end{cases} \Rightarrow 0 \leq x < a \quad (2)$$

Il lato maggiore deve essere $a+2x$, quindi, per la disuguaglianza triangolare deve essere:

$$\begin{cases} a + 2x < (2a - x) + (a - x) \\ a + 2x > (2a - x) - (a - x) \end{cases} \Rightarrow \begin{cases} x < \frac{a}{2} \\ x > 0 \end{cases} \Rightarrow 0 < x < \frac{a}{2} \quad (3)$$

Mettendo insieme la (2) e la (3) abbiamo: $0 < x < \frac{a}{2}$

b)

Determinare se, fra i triangoli non degeneri i cui lati hanno le lunghezze [1], ne esiste uno di area massima o minima.

L'area del triangolo può essere calcolata mediante la formula di Erone:

$A = \sqrt{p(p-a)(p-b)(p-c)}$, dove p è il semiperimetro e a , b e c sono le misure dei lati del triangolo.

Nel nostro caso:

$$2p = a + 2x + a - x + 2a - x = 4a, \text{ da cui } p = 2a$$

I lati del triangolo hanno lunghezze: $a+2x$, $a-x$ e $2a-x$. Quindi

$$A = \sqrt{p(p-a)(p-b)(p-c)} = \sqrt{2a(a-2x)(a+x)x}$$

Tale area è massima se lo è $2a(a-2x)(a+x)x$, cioè $y = (a-2x)(a+x)x$

(con $0 < x < \frac{a}{2}$).

La funzione è continua e derivabile nell'intervallo della x e risulta:

$$y' = -6x^2 - 2ax + a^2 > 0 \text{ se } \frac{-a-a\sqrt{7}}{6} < x < \frac{-a+a\sqrt{7}}{6} \text{ (con } 0 < x < \frac{a}{2} \text{)}$$

La funzione è crescente da 0 a $\frac{-a+a\sqrt{7}}{6}$ e decrescente da $\frac{-a+a\sqrt{7}}{6}$ ad $\frac{a}{2}$.

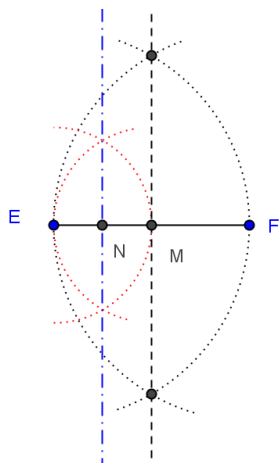
Quindi l'area è massima per $x = \frac{-a+a\sqrt{7}}{6} = \frac{a(\sqrt{7}-1)}{6}$.

c)

Verificare che per $x = \frac{a}{4}$ le [1] rappresentano le lunghezze dei lati di un triangolo, descriverne una costruzione geometrica con riga e compasso e stabilire se si tratta di un triangolo rettangolo, acutangolo o ottusangolo.

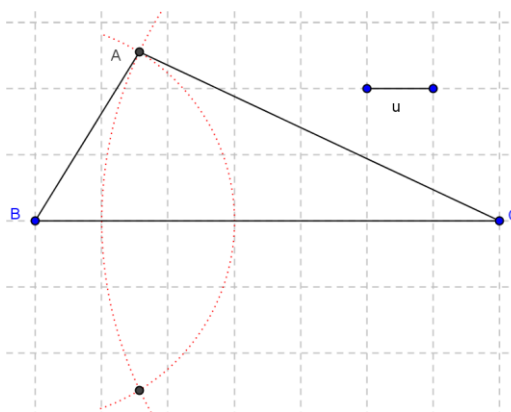
Siccome $0 < \frac{a}{4} < \frac{a}{2}$, per $x = \frac{a}{4}$ abbiamo un triangolo non degenere, i cui lati hanno lunghezze: $\frac{3}{2}a$, $\frac{3}{4}a$, $\frac{7}{4}a$.

A partire dal segmento dato di lunghezza a costruiamo il segmento di lunghezza $\frac{a}{4}$: indicato con EF il segmento di lunghezza a , trovo il punto medio M di EF e poi il punto medio N di EM: il segmento EN ha misura $\frac{a}{4}$.



Posto $EN=u$, il triangolo richiesto ha le misure dei lati pari a $6u$, $3u$, $7u$.

Per costruire il triangolo richiesto: costruiamo il segmento BC di lunghezza $7u$; puntiamo il compasso in B con apertura $3u$ ed in C con apertura $6u$: una delle intersezioni delle due circonferenze è il vertice A del triangolo richiesto.



Dobbiamo ora stabilire se il triangolo è rettangolo, acutangolo oppure ottusangolo.

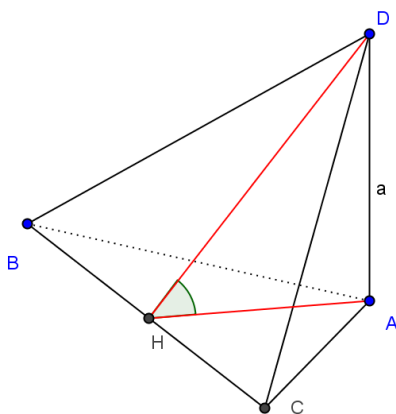
Calcoliamo il coseno dell'angolo in A mediante il teorema del coseno.

$BC^2 = AB^2 + AC^2 - 2AB \cdot AC \cdot \cos \hat{A}$, da cui:

$\cos \hat{A} = \frac{AB^2 + AC^2 - BC^2}{2AB \cdot AC} = \dots = -\frac{1}{9}$; pertanto l'angolo in A è ottuso: **triangolo ottusangolo**.

d)

AD=a, perpendicolare al piano di ABC. L'angolo tra i piani ABC e DBC è uguale all'angolo tra AH (perpendicolare a BC) e DH (perpendicolare a BC); per trovare tale angolo consideriamo il triangolo AHD rettangolo in A.



Risulta:

$$\operatorname{tg} D\hat{H}A = \frac{AD}{AH}; \quad AH = \frac{2\operatorname{Area}(ABC)}{BC}; \quad \operatorname{Area}(ABC) = \frac{1}{2} \cdot AB \cdot AC \cdot \operatorname{sen}(\hat{A})$$

Siccome $\cos \hat{A} = -\frac{1}{9}$, risulta $\operatorname{sen}(\hat{A}) = \sqrt{\frac{80}{81}} = \frac{4}{9}\sqrt{5}$; quindi:

$$\operatorname{Area}(ABC) = \frac{1}{2} \cdot AB \cdot AC \cdot \operatorname{sen}(\hat{A}) = \frac{1}{2} \cdot \frac{3}{4}a \cdot \frac{3}{2}a \cdot \frac{4}{9}\sqrt{5} = \frac{\sqrt{5}}{4}a^2, \text{ pertanto:}$$

$$AH = \frac{2\operatorname{Area}(ABC)}{BC} = \frac{\frac{\sqrt{5}}{4}a^2}{\frac{7}{4}a} = \frac{2\sqrt{5}}{7}a \text{ ed infine:}$$

$$\operatorname{tg} D\hat{H}A = \frac{AD}{AH} = \frac{a}{\frac{2\sqrt{5}}{7}a} = \frac{7\sqrt{5}}{10}, \text{ quindi } D\hat{H}A = \operatorname{arctg}\left(\frac{7\sqrt{5}}{10}\right) \Rightarrow D\hat{H}A \cong 57^\circ$$