

ORDINAMENTO 2010

QUESITO 1

Siccome la derivata annulla le costanti e abbassa di uno l'esponente delle potenze, dopo n derivate rimarrà solo la derivata n -esima del termine di grado n .

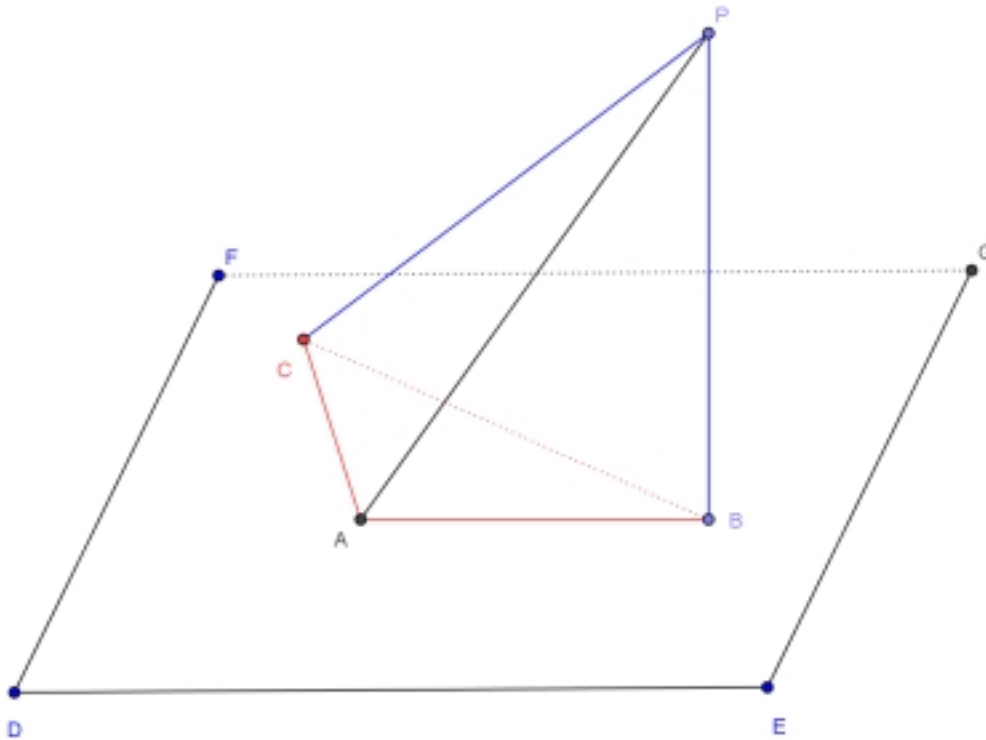
$$D(a_n x^n) = n a_n x^{n-1}$$

$$D^2(a_n x^n) = n(n-1) a_n x^{n-2}$$

e così via fino ad ottenere

$$D^n(a_n x^n) = n(n-1) \cdot \dots \cdot 3 \cdot 2 \cdot 1 a_n = n! a_n$$

QUESITO 2



Siccome PB è perpendicolare al piano di ABC , è perpendicolare a qualsiasi retta passante per B appartenente al piano, quindi PB è perpendicolare ad AB e a CB : i triangoli PAB e PBC sono quindi rettangoli in B .

Siccome dal piede della perpendicolare B al piano si conduce la perpendicolare BA alla retta AC dello stesso piano, quest'ultima risulta perpendicolare al piano individuato da PB e AB (**teorema delle tre perpendicolari**): quindi CA è perpendicolare alla retta PA e

pertanto CAP è rettangolo in A.

Si può alternativamente utilizzare il teorema di Pitagora per mostrare che CAP è rettangolo in A:

dal triangolo PAB: $PA^2 = PB^2 + AB^2$

dal triangolo PBC: $PC^2 = PB^2 + BC^2$.

Ricavando PB^2 dalla prima relazione e PC^2 dalla seconda si ottiene

$$PC^2 = (PA^2 - AB^2) + BC^2 = PA^2 + (BC^2 - AB^2) = PA^2 + AC^2$$

dove nell'ultima uguaglianza si è applicato il teorema di Pitagora al triangolo ABC.

Risulta quindi $PC^2 = PA^2 + AC^2$ che dimostra che il triangolo PAC è rettangolo in A.

QUESITO 3

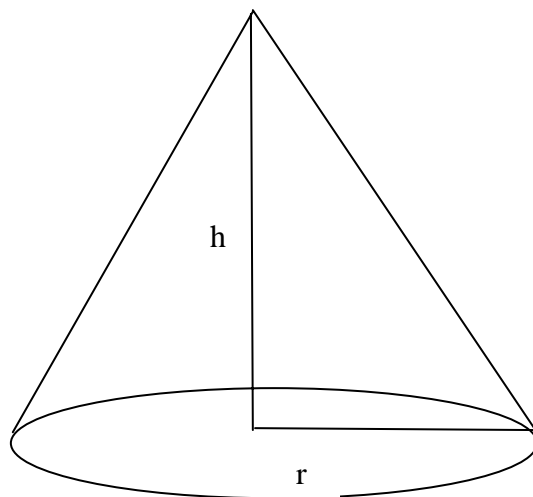
La pendenza della generica retta tangente al grafico di f in $(x, f(x))$ è pari a $f'(x)$, ne segue

che occorre cercare x tale che $2 = 3e^{3x} \Rightarrow e^{3x} = \frac{2}{3} \Rightarrow x = \frac{1}{3} \ln\left(\frac{2}{3}\right)$

QUESITO 4

$$\lim_{x \rightarrow \infty} 4x \sin \frac{1}{x} = \lim_{x \rightarrow \infty} 4 \frac{\sin \frac{1}{x}}{\frac{1}{x}} = 4$$

QUESITO 5



L'apotema del cono è 80 cm=8 dm. Indichiamo con h l'altezza del cono e con r il raggio di

base del cono. Si ha $r^2 = 64 - h^2$. Il volume del cono è $V(h) = \frac{\pi r^2 h}{3} = \frac{\pi}{3} h(64 - h^2)$.

Cerchiamo il massimo di V.

$V'(h) = \frac{\pi}{3}(64 - 3h^2) = 0 \Leftrightarrow h = \sqrt{\frac{64}{3}}$. Essendo la derivata positiva prima di questo valore e negativa dopo si ha che esso è un massimo. Risulta quindi

$$V = \frac{\pi}{3} \frac{128}{3} \sqrt{\frac{64}{3}} \approx 206.370 dm^3 = 206.370 l = \text{capacità massima}$$

QUESITO 6

Il dominio della funzione coseno è tutto R. Il dominio di $\sqrt{\cos x}$ è dato da

$$\cos x \geq 0 \text{ da cui } -\frac{\pi}{2} + 2k\pi \leq x \leq \frac{\pi}{2} + 2k\pi.$$

QUESITO 7

Si ha $h(4)=0$ ed essendo un polinomio continuo si ha anche che il limite sinistro in 4 vale 0. Controlliamo il limite destro. La funzione è continua se e solo se anche questo limite vale 0. Dobbiamo quindi porre

$$\lim_{x \rightarrow 4^+} h(x) = 16k - 8 - 1 = 16k - 9 = 0 \Rightarrow k = \frac{9}{16}$$

QUESITO 8

Si tratta di verificare che, se $n > 3$:

$$\binom{n}{n-2} - \binom{n}{n-1} = \binom{n}{n-3} - \binom{n}{n-2}.$$

Equivalente a:

$$\begin{aligned} 2 \binom{n}{n-2} - \binom{n}{n-1} &= \binom{n}{n-3} \\ 2 \frac{n!}{(n-2)!2!} - \frac{n!}{(n-1)!1!} &= \frac{n!}{(n-3)!3!} \\ \frac{n!}{(n-2)(n-3)!} - \frac{n!}{(n-1)(n-2)(n-3)!} &= \frac{n!}{(n-3)!3!} \end{aligned}$$

Riducendo al minimo comune multiplo si arriva all'equazione:

$$n^2 - 9n + 14 = 0$$

che ha le soluzioni $n=2$ ed $n=7$ di cui è accettabile solo $n=7$.

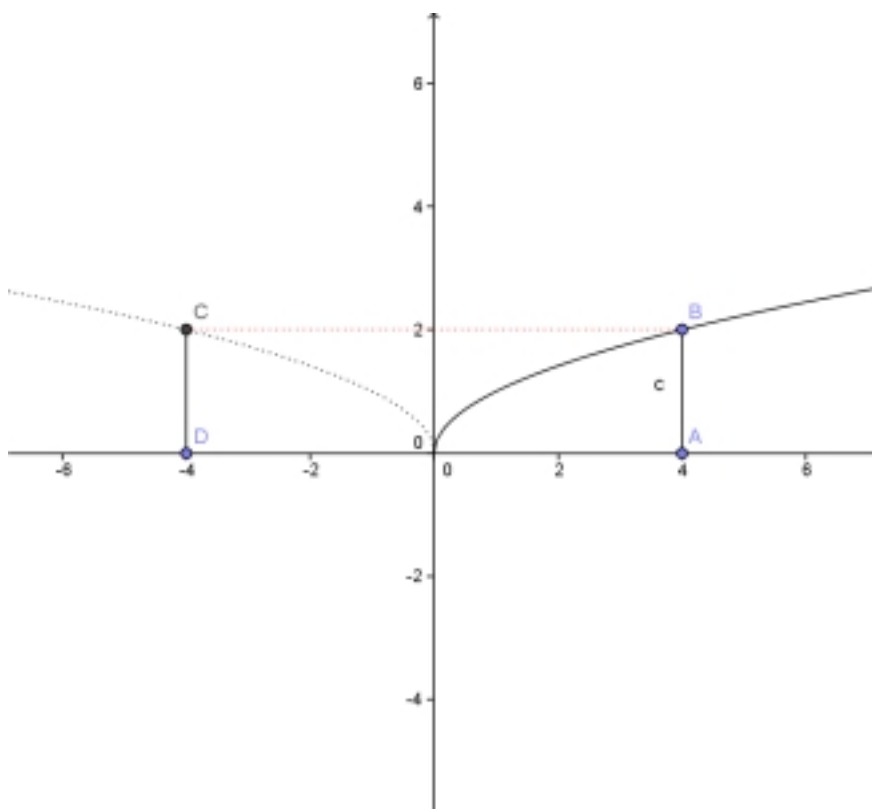
QUESITO 9

1) Per il teorema dei seni $\frac{3}{\text{sen}\gamma} = \frac{2}{\text{sen}45^\circ}$ da cui $\text{sen}\gamma = \frac{3\sqrt{2}}{4} > 1 \Rightarrow$ impossibile.

2) Sempre per il teorema dei seni: $\frac{3}{\text{sen}\gamma} = \frac{2}{\text{sen}30^\circ}$ da cui $\text{sen}\gamma = \frac{3}{4} \Rightarrow \gamma = \text{sen}^{-1}\left(\frac{3}{4}\right)$ quindi $\gamma_1 = 48,59^\circ$ e $\gamma_2 = \pi - \gamma_1 = 131,41^\circ$, entrambi accettabili.

PNI

QUESITO 10



Il volume del solido generato dalla regione nella rotazione intorno all'asse y si ottiene sottraendo al volume del cilindro con raggio di base 4 e altezza 2 il volume del solido ottenuto facendo ruotare intorno all'asse y il grafico di $y = \sqrt{x}$ con x compresa tra 0 e 4.

$$\text{Volume} = 32\pi - \pi \int_0^2 x^2 dy = 32\pi - \pi \int_0^2 y^4 dy = 32\pi - \pi \left[\frac{y^5}{5} \right]_0^2 = 32\pi - \frac{32}{5}\pi = \frac{128}{5}\pi$$

Con la collaborazione di Simona Scoleri e Angela Santamaria