

## LICEO SCIENTIFICO 2016 - QUESTIONARIO

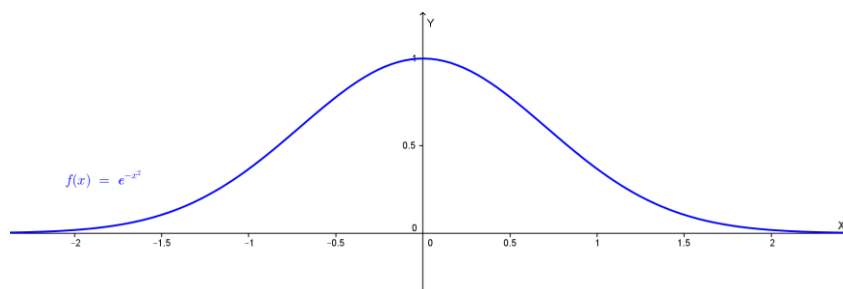
### QUESITO 1

È noto che  $\int_{-\infty}^{+\infty} e^{-x^2} dx = \sqrt{\pi}$ .

Stabilire se il numero reale  $u$ , tale che  $\int_{-\infty}^u e^{-x^2} dx = 1$ , è positivo o negativo.  
 Determinare inoltre i valori dei seguenti integrali, motivando le risposte:

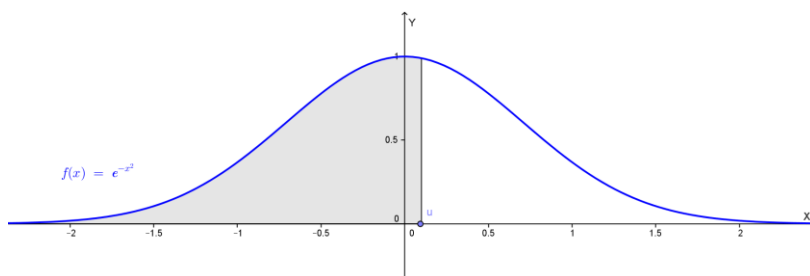
$$A = \int_{-u}^u x^7 e^{-x^2} dx \quad B = \int_{-u}^u e^{-x^2} dx \quad C = \int_{-\infty}^{+\infty} e^{-5x^2} dx$$

Osserviamo che la funzione  $f(x) = e^{-x^2}$  è pari e positiva ed il suo grafico è del tipo:



Il valore dell'integrale fornito è uguale all'area compresa fra il grafico della funzione e l'asse delle  $x$ .

Dalla simmetria del grafico deduciamo che  $\int_{-\infty}^0 e^{-x^2} dx = \frac{\sqrt{\pi}}{2} < 1$ . Quindi, essendo  $\int_{-\infty}^u e^{-x^2} dx = 1$ , deve essere  $u > 0$ :



Per calcolare l'integrale  $A$  osserviamo che la funzione integranda è dispari, quindi, l'integrale è nullo:  $A = \int_{-u}^u x^7 e^{-x^2} dx = 0$ .

Calcoliamo l'integrale B:

$$B = \int_{-u}^u e^{-x^2} dx = 2 \int_0^u e^{-x^2} dx = 2 \left( \int_{-\infty}^u e^{-x^2} dx - \int_{-\infty}^0 e^{-x^2} dx \right) = 2 \left( 1 - \frac{\sqrt{\pi}}{2} \right) = 2 - \sqrt{\pi} = B$$

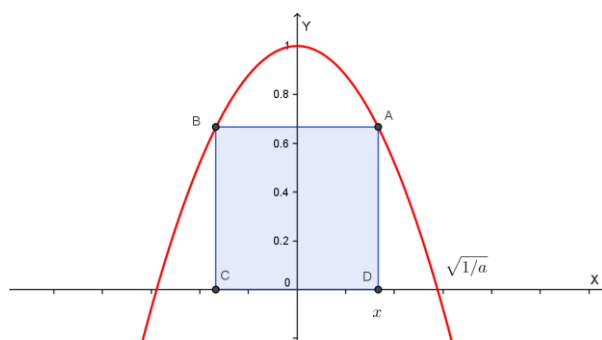
Calcoliamo l'integrale C. Effettuando la sostituzione  $\sqrt{5}x = t$  otteniamo  $\sqrt{5}dx = dt$ , quindi (notato che se  $x \rightarrow \pm\infty$  anche  $t \rightarrow \pm\infty$ ):

$$C = \int_{-\infty}^{+\infty} e^{-5x^2} dx = C = \int_{-\infty}^{+\infty} e^{-t^2} \frac{1}{\sqrt{5}} dt = \frac{1}{\sqrt{5}} \int_{-\infty}^{+\infty} e^{-t^2} dt = \frac{1}{\sqrt{5}} \cdot \sqrt{\pi} = \frac{\sqrt{\pi}}{\sqrt{5}} = C$$

## QUESITO 2

Data una parabola di equazione  $y = 1 - ax^2$ , con  $a > 0$  si vogliono inscrivere dei rettangoli, con un lato sull'asse  $x$ , nel segmento parabolico delimitato dall'asse  $x$ . Determinare  $a$  in modo tale che il rettangolo di area massima sia anche il rettangolo di perimetro massimo.

La parabola ha il seguente grafico:



Indicata con  $x$  l'ascissa del vertice A del rettangolo appartenente al primo quadrante, con

$$0 \leq x \leq \sqrt{\frac{1}{a}}$$

risulta:

$$\text{Area}(ABCD) = 2x(1 - ax^2) = 2x - 2ax^3 = A(x)$$

Calcoliamo la derivata prima:

$$A'(x) = 2 - 6ax^2 \geq 0 \quad \text{se} \quad x^2 \leq \frac{1}{3a} : \quad -\sqrt{\frac{1}{3a}} \leq x \leq \sqrt{\frac{1}{3a}}$$

La funzione è quindi crescente da 0 a  $\sqrt{\frac{1}{3a}}$  e decrescente da  $\sqrt{\frac{1}{3a}}$  fino a  $\sqrt{\frac{1}{a}}$ :

l'area è quindi massima se  $x = \sqrt{\frac{1}{3a}}$ .

Calcoliamo il perimetro del rettangolo:

$2p(ABCD) = 4x_A + 2y_A = 2(2x + 1 - ax^2)$ ; questa funzione è massima se lo è:

$$y = -ax^2 + 2x + 1$$

Si tratta di una parabola con la concavità rivolta verso il basso, quindi il massimo si ha in corrispondenza del vertice:

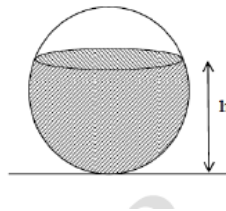
$$x_V = -\frac{b}{2a} = \frac{1}{a} \text{ (che soddisfa le limitazioni della } x \text{)}.$$

Affinché l'area ed il perimetro del rettangolo siano entrambi massimi deve essere:

$$\sqrt{\frac{1}{3a}} = \frac{1}{a}, \text{ da cui } \frac{1}{3a} = \frac{1}{a^2} \text{ quindi } a = 3.$$

### QUESITO 3

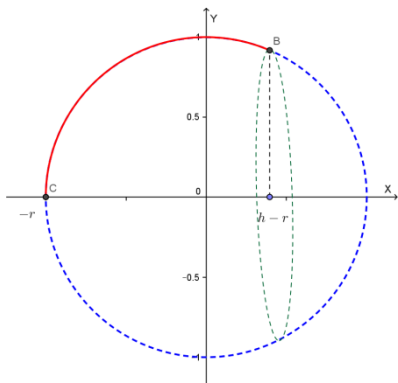
Un recipiente sferico con raggio interno  $r$  è riempito con un liquido fino all'altezza  $h$ .



Utilizzando il calcolo integrale, dimostrare che il volume del liquido è dato da:

$$V = \pi \cdot \left( rh^2 - \frac{h^3}{3} \right).$$

Il volume richiesto si può ottenere dalla rotazione completa attorno all'asse  $x$  dell'arco della circonferenza di equazione  $x^2 + y^2 = r^2$  con estremi  $(-r; 0)$  e  $(h - r; 0)$ :



$$\begin{aligned} V &= \pi \int_a^b f^2(x) dx = \pi \int_{-r}^{h-r} y^2 dx = \pi \int_{-r}^{h-r} (r^2 - x^2) dx = \\ &= \pi \left[ r^2 x - \frac{x^3}{3} \right]_{-r}^{h-r} = \dots = \pi \cdot \left( rh^2 - \frac{h^3}{3} \right) = V \end{aligned}$$

#### QUESITO 4

Un test è costituito da 10 domande a risposta multipla, con 4 possibili risposte di cui solo una è esatta. Per superare il test occorre rispondere esattamente almeno a 8 domande. Qual è la probabilità di superare il test rispondendo a caso alle domande?

Si tratta di una distribuzione binomiale con  $n=10$ ,  $p=1/4$  (probabilità di 1 successo, cioè di rispondere correttamente ad una domanda) e  $q=3/4$ .

La probabilità di avere almeno 8 successi equivale a:

$$p = p(10,8) + p(10,9) + p(10,10) = \binom{10}{8} \left(\frac{1}{4}\right)^8 \left(\frac{3}{4}\right)^2 + \binom{10}{9} \left(\frac{1}{4}\right)^9 \left(\frac{3}{4}\right) + \binom{10}{10} \left(\frac{1}{4}\right)^{10} \left(\frac{3}{4}\right)^0 = \\ = \frac{436}{4^{10}} \cong 0.000416 = 0,042 \% = p(x \geq 8)$$

#### QUESITO 5

Una sfera, il cui centro è il punto  $K(-2, -1, 2)$ , è tangente al piano  $\Pi$  avente equazione  $2x - 2y + z - 9 = 0$ . Qual è il punto di tangenza? Qual è il raggio della sfera?

Il punto di tangenza si ottiene intersecando la retta  $r$  passante per il centro e perpendicolare al piano tangente con il piano stesso. Tale retta ha per parametri direttori i coefficienti  $(2, -2, 1)$  del piano; la sua equazione è quindi:

$$\begin{cases} x = -2 + 2t \\ y = -1 - 2t \\ z = 2 + t \end{cases}$$

Intersechiamo questa retta con il piano tangente:

$$2(-2 + 2t) - 2(-1 - 2t) + (2 + t) - 9 = 0, \dots, t = 1$$

Il punto di tangenza ha quindi coordinate:  $T = (0; -3; 3)$ .

Il raggio della sfera si ottiene calcolando la distanza  $KT$ :

$$\text{raggio sfera} = \sqrt{(-2 - 0)^2 + (-1 + 3)^2 + (2 - 3)^2} = 3$$

## QUESITO 6

Si stabilisca se la seguente affermazione è vera o falsa, giustificando la risposta:

“Esiste un polinomio  $P(x)$  tale che:  $|P(x) - \cos(x)| \leq 10^{-3}$ ,  $\forall x \in \mathbb{R}$ ”.


L'affermazione è falsa.

$|P(x) - \cos(x)|$  rappresenta la distanza fra i punti  $A = (x; P(x))$  e  $B = (x; \cos(x))$ .

Osserviamo che la funzione polinomiale  $y = P(x)$ , di grado non nullo, è illimitata, quindi, per esempio, quando  $x$  tende a più infinito essa tende a più o meno infinito. La funzione coseno è invece limitata fra -1 e 1: la distanza AB tende quindi a più infinito e pertanto non esiste alcun polinomio per cui valga la disuguaglianza indicata PER OGNI X REALE. Se il polinomio ha grado zero (quindi  $P(x) = k$ ), la relazione  $|k - \cos(x)| \leq 10^{-3}$  non può essere verificata PER OGNI X REALE.

## QUESITO 7

Una pedina è collocata nella casella in basso a sinistra di una scacchiera, come in figura. Ad ogni mossa, la pedina può essere spostata o nella casella alla sua destra o nella casella sopra di essa. Scelto casualmente un percorso di 14 mosse che porti la pedina nella casella d'angolo opposta A, qual è la probabilità che essa passi per la casella indicata con B?



Per raggiungere la posizione A la pedina deve spostarsi di 7 caselle a destra e di 7 in alto; i possibili percorsi sono quindi pari alle permutazioni con ripetizioni di 14 oggetti (le mosse) di cui 7 uguali fra di loro (spostamenti a destra) e altri 7 uguali fra di loro (spostamenti in alto):

$$\text{numero percorsi possibili} = \frac{14!}{7!7!} = 3432$$

Per raggiungere la posizione B la pedina deve spostarsi di 3 caselle a destra e di 5 in alto; i possibili percorsi sono quindi pari alle permutazioni con ripetizioni di 8 oggetti (le mosse necessarie per raggiungere B) di cui 3 uguali fra di loro (spostamenti a destra) e altri 5 uguali fra di loro (spostamenti in alto):

$$\text{numero percorsi favorevoli fino a B} = \frac{8!}{3!5!} = 56$$

La pedina deve poi spostarsi da B ad A, poiché sono richieste 14 mosse e per far ciò deve spostarsi di 4 caselle a destra e di 2 in alto; tali spostamenti sono quindi dati da:

$$\text{numero percorsi da B ad A} = \frac{6!}{4!2!} = 15$$

Quindi il numero dei percorsi favorevoli è dato dal prodotto  $56 \cdot 15 = 840$

La probabilità richiesta è quindi:

$$p = \frac{\text{numero percorsi favorevoli}}{\text{numero percorsi possibili}} = \frac{840}{3432} = \frac{35}{143} \cong 0.2448 = 24.5 \%$$

### QUESITO 8

Data la funzione  $f(x)$  definita in  $\mathbb{R}$ ,  $f(x) = e^x(2x + x^2)$ , individuare la primitiva di  $f(x)$  il cui grafico passa per il punto  $(1, 2e)$ .

Integrando due volte per parti si ha:

$$\begin{aligned} \int e^x(2x + x^2)dx &= (2x + x^2)e^x - \int (2 + 2x)e^x dx = \\ &= (2x + x^2)e^x - \left[ (2 + 2x)e^x - \int 2e^x dx \right] = (2x + x^2)e^x - (2 + 2x)e^x + 2e^x + k = \\ &= x^2e^x + k \end{aligned}$$

La primitiva passante per  $(1, 2e)$  si ottiene ponendo:

$$2e = 1^2e^1 + k, \quad \text{da cui} \quad k = e$$

La primitiva di  $f(x)$  il cui grafico passa per il punto  $(1, 2e)$  ha quindi equazione:

$$y = x^2e^x + e$$

### QUESITO 9

Date le rette

$$\begin{cases} x = t \\ y = 2t \\ z = t \end{cases} \quad \begin{cases} x + y + z - 3 = 0 \\ 2x - y = 0 \end{cases}$$

e il punto  $P(1, 0, -2)$  determinare l'equazione del piano passante per  $P$  e parallelo alle due rette.

Cerchiamo i parametri direttori della seconda retta scrivendola in forma parametrica; ponendo  $x=h$  nella seconda equazione otteniamo  $y=2h$ , quindi dalla prima  $z=3-3h$ ; la retta ha quindi equazioni parametriche:

$$\begin{cases} x = h \\ y = 2h \\ z = 3 - 3h \end{cases}$$

I parametri direttori della prima retta sono  $(1, 2, 1)$ , quelli della seconda retta  $(1, 2, -3)$ . I parametri direttori del piano  $(a, b, c)$  devono quindi soddisfare le seguenti condizioni di parallelismo retta-piano:

$$\begin{cases} a + 2b + c = 0 \\ a + 2b - 3c = 0 \end{cases}, \begin{cases} c = 0 \\ a = -2b \end{cases}$$

Ricordiamo che il piano passante per un punto con dati parametri direttori ha equazione del tipo:  $a(x - x_0) + b(y - y_0) + c(z - z_0) = 0$ , quindi il nostro piano ha equazione:

$$-2b(x - 1) + b(y - 0) + 0(z + 2) = 0, \quad 2x - y - 2 = 0$$

(osserviamo che  $b$  non può essere nullo, altrimenti lo sarebbero anche  $a$  e  $c$  e ciò non è possibile).

### QUESITO 10

Sia  $f$  la funzione così definita nell'intervallo  $]1, +\infty[$ :

$$f(x) = \int_e^{x^2} \frac{t}{\ln t} dt$$

Scrivere l'equazione della retta tangente al grafico di  $f$  nel suo punto di ascissa  $\sqrt{e}$ .

Calcoliamo l'ordinata del punto:

$$f(\sqrt{e}) = \int_e^e \frac{t}{\ln t} dt = 0$$

Il coefficiente angolare della tangente è dato da  $f'(\sqrt{e})$ . Ricordiamo la seguente proprietà sulla derivata della funzione integrale (conseguenza del teorema fondamentale del calcolo integrale e del teorema sulla derivata della funzione composta):

Se  $F(x) = \int_a^{g(x)} f(t) dt$  allora  $F'(x) = f(g(x)) \cdot g'(x)$

Nel nostro caso si ha:  $f'(x) = \frac{x^2}{\ln(x^2)} \cdot 2x$ , quindi:  $f'(\sqrt{e}) = 2e\sqrt{e}$ . La tangente ha quindi equazione:

$$y - y_0 = m(x - x_0), \quad y - 0 = 2e\sqrt{e}(x - \sqrt{e}), \quad y = 2e\sqrt{e} \cdot x - 2e^2$$

Con la collaborazione di Angela Santamaria