

Scuole italiane all'estero (Europa) 2003 – Quesiti

QUESITO 1

Date un esempio di solido la cui superficie laterale è 7π .

Ricordando che la superficie laterale di un cono circolare retto è: $S_l = \pi R a$, dove R è il raggio di base ed a l'apotema, possiamo assumere $R=1$ e quindi si deve avere:

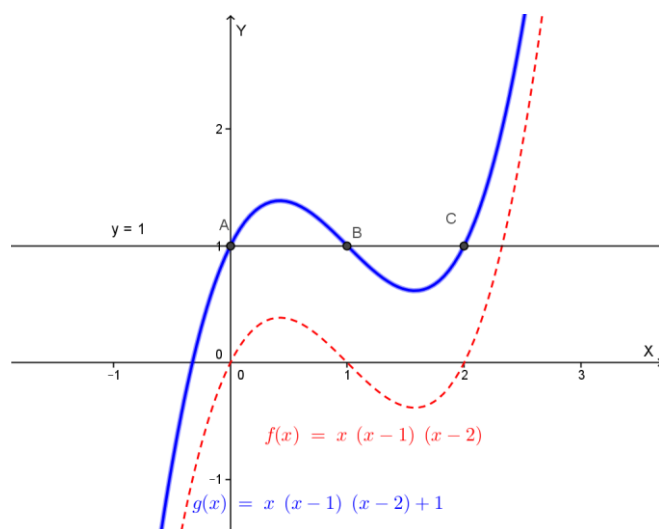
$$\pi R = 7\pi, \quad R = \frac{7\pi}{\pi}$$

Un possibile solido con la superficie laterale 7π è quindi un cono circolare retto con apotema uguale ad 1 e raggio di base $\frac{7\pi}{\pi}$.

QUESITO 2

Date un esempio di polinomio il cui grafico taglia la retta $y=1$ tre volte.

La funzione polinomiale $f(x) = x(x-1)(x-2)$ taglia l'asse x (retta di equazione $y=0$) nei tre punti di ascissa 0, 1 e 2. Effettuando una traslazione di vettore $(0; 1)$ otteniamo la funzione $g(x) = x(x-1)(x-2) + 1$, che taglierà la retta di equazione $y=1$ nei tre punti $(0; 1)$, $(1; 1)$ e $(2; 1)$.



QUESITO 3

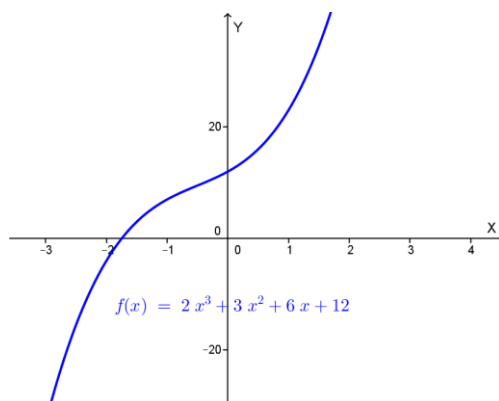
Dimostrate, senza risolverla, che l'equazione: $2x^3 + 3x^2 + 6x + 12 = 0$ ammette una e una sola radice reale.

Tutte le funzioni polinomiali di grado dispari ammettono ALMENO UNO ZERO; infatti sono funzioni continue ed i limiti a + infinito e - infinito sono +/- infinito e -/+ infinito rispettivamente.

Nel nostro caso poniamo $f(x) = 2x^3 + 3x^2 + 6x + 12$ e studiamone la monotonia:

$$f'(x) = 6x^2 + 6x + 6 > 0 \text{ per ogni } x \text{ essendo } \Delta < 0$$

La funzione è quindi sempre crescente perciò HA UN SOLO ZERO; ciò equivale a dire che l'equazione data ha una ed una sola radice.



QUESITO 4

Calcolate $D[\operatorname{arccot} x]$ (D = derivata) e dite perché essa è opposta a $D[\operatorname{arctan} x]$.

La funzione $y = \operatorname{arccot} x$, è l'inversa di $x = \cot y$; in base al teorema sulla derivata della funzione inversa si ha:

$$D[\operatorname{arccot} x] = \frac{1}{D[\cot y]} = \frac{1}{-1 - \cot^2 y} = -\frac{1}{1 + x^2} = -D[\operatorname{arctan} x]$$

Osserviamo che si può dimostrare (*) che $\operatorname{arccot} x = \frac{\pi}{2} - \operatorname{arctan} x$, quindi

$$D[\operatorname{arccot} x] = D\left[\frac{\pi}{2} - \operatorname{arctan} x\right] = -D[\operatorname{arctan} x].$$

(*) Posto $\cot x = \alpha$, si ha $\tan\left(\frac{\pi}{2} - x\right) = \cot x = \alpha$, $\frac{\pi}{2} - x = \operatorname{arctan} \alpha$,

$$\frac{\pi}{2} - \operatorname{arccot} \alpha = \operatorname{arctan} \alpha \text{ da cui: } \operatorname{arccot} \alpha = \frac{\pi}{2} - \operatorname{arctan} \alpha.$$

QUESITO 5

Scrivete l'equazione della tangente a λ , grafico di $f(x) = 2x - \log\left(e^{\frac{\pi}{2}} + 1\right)$ nel suo punto P di ascissa 0.

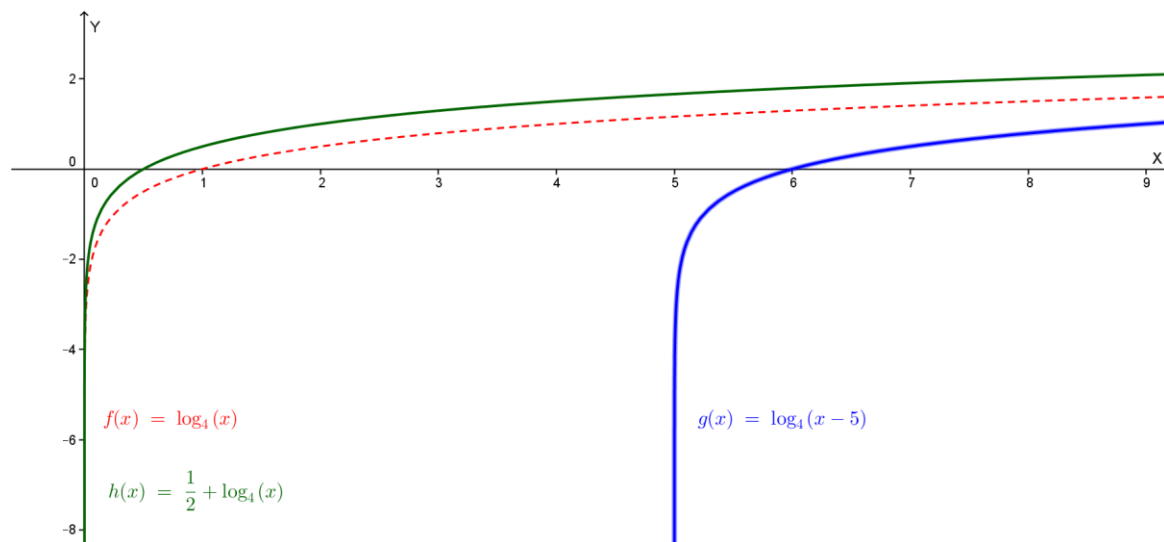
Risulta: $f'(x) = 2$, quindi, essendo $f(0) = -\log\left(e^{\frac{\pi}{2}} + 1\right)$, la tangente richiesta ha equazione:

$$y - f(0) = f'(0)(x - 0), \quad y + \log\left(e^{\frac{\pi}{2}} + 1\right) = 2x, \quad y = 2x - \log\left(e^{\frac{\pi}{2}} + 1\right)$$

QUESITO 6

Dopo aver tracciato il grafico della funzione $\log_4 x$, come vi regolereste per tracciare il grafico della funzione $\log_4(x - 5)$? e quello della funzione $\log_4 2x$?

Il grafico di $\log_4(x - 5)$ si ottiene da quello di $\log_4 x$ con una traslazione di vettore $(5; 0)$
Il grafico di $\log_4 2x = \log_4 2 + \log_4 x = \frac{1}{2} + \log_4 x$ si ottiene da quello di $\log_4 x$ con una traslazione di vettore $\left(0; \frac{1}{2}\right)$.



QUESITO 7

Fra le primitive di $y = 3 \cos^3 x$ trovare quella il cui diagramma passa per $P(0, 5)$.

$$F(x) = \int 3 \cos^3 x \, dx = 3 \int \cos x (\cos^2 x) \, dx = 3 \int \cos x (1 - \sin^2 x) \, dx =$$
$$= 3 \int \cos x \, dx - 3 \int \cos x \sin^2 x \, dx = 3 \sin x - 3 \left[\frac{1}{3} \sin^3 x \right] + C =$$

$$= 3 \sin x - \sin^3 x + C$$

Imponendo il passaggio per $P(0, 5)$ otteniamo:

$$5 = C .$$

La primitiva richiesta ha quindi equazione: $y = 3 \sin x - \sin^3 x + 5$.

QUESITO 8

Il coefficiente angolare della tangente al diagramma di $f(x)$ è, in ogni suo punto P , uguale al doppio dell'ascissa di P . Determinate $f(x)$ sapendo che $f(0)=4$.

Deve essere: $f'(x) = 2x$, quindi: $f(x) = x^2 + C$. Essendo $f(0)=4$ si ha: $4=C$.

La funzione richiesta è quindi: $f(x) = x^2 + 4$.

Con la collaborazione di Angela Santamaria