

**Americhe emisfero australe 2003 – Sessione suppletiva**

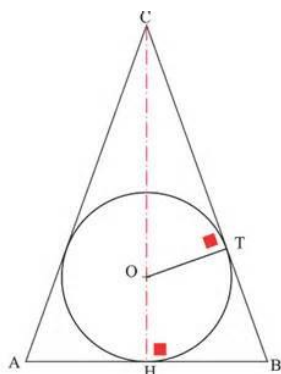
**PROBLEMA 2**

Fra i coni circolari retti circoscritti ad una sfera di raggio 6 cm, determinate:

**a)**

Il cono C di volume minimo e il valore, espresso in litri, di tale volume minimo.

Indichiamo con R il raggio della sfera.



Poniamo l'altezza CH del cono uguale ad x: CH=x, con  $x > 2R$ . Per la similitudine fra i triangoli HBC e TCO risulta:

CT:OT=CH:BH ; inoltre:

$$CT = \sqrt{OC^2 - OT^2} = \sqrt{(x - R)^2 - R^2} = \sqrt{x^2 - 2Rx}$$

Pertanto:

$$\sqrt{x^2 - 2Rx} : R = x : BH \quad , \quad BH = \frac{Rx}{\sqrt{x^2 - 2Rx}} = \frac{R\sqrt{x^2 - 2Rx}}{x - 2R}$$

Il volume del cono è pertanto:

$$V = \frac{1}{3}\pi r^2 h = \frac{1}{3}\pi \cdot BH^2 \cdot CH = \frac{1}{3}\pi \cdot \frac{R^2 x}{x - 2R} \cdot x = \frac{1}{3}\pi \cdot \frac{R^2 x^2}{x - 2R}, \quad \text{con } x > 2R$$

Tale volume è minimo se lo è:

$$y = \frac{x^2}{x - 2R}$$

$$y' = \frac{x(x - 4R)}{(x - 2R)^2} \geq 0 \quad \text{se } x \geq 4R$$

Quindi y è crescente se  $x > 4R$  e decrescente se  $2R < x < 4R$  :  $x = 4R$  è punto di minimo assoluto.

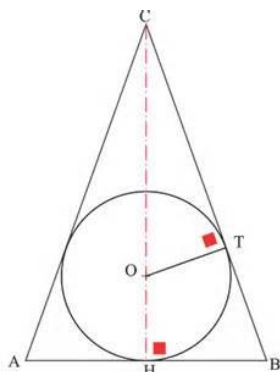
Il volume del cono C circoscritto ad una sfera di raggio R è minimo quando la sua altezza è uguale a 4R; il volume del cono vale in tal caso  $\frac{8}{3}\pi R^3$ .

Se R=6 cm, il cono C di volume minimo è quello di altezza h=x=24 cm ed il suo volume è:

$$V = \frac{8}{3}\pi R^3 = \frac{8}{3}\pi \cdot 216 \text{ cm}^3 = 576 \pi \text{ cm}^3 = (576 \pi) \cdot 10^{-3} \text{ litri} \cong 1.810 \text{ litri} = \text{Vol. min.}$$

b)

il valore approssimato, in gradi sessagesimali, dell'angolo di apertura di C.



Come visto nel punto precedente:

$$BH = \frac{R\sqrt{x^2 - 2Rx}}{x - 2R} = \frac{R \cdot \sqrt{8R^2}}{2R} = R\sqrt{2} = 6\sqrt{2} \text{ cm} = AH$$

Risulta quindi:

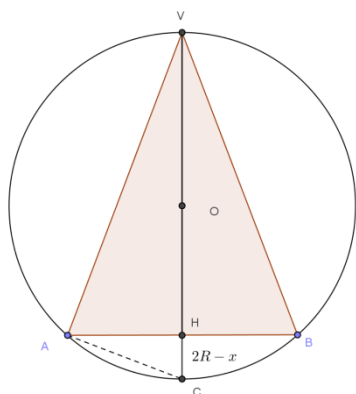
$$\operatorname{tg} \hat{A}CH = \frac{AH}{CH} = \frac{6\sqrt{2}}{24} = \frac{\sqrt{2}}{4}, \quad \hat{A}CH = \operatorname{arctg} \left( \frac{\sqrt{2}}{4} \right) \cong 19.47^\circ$$
$$\hat{A}CB = 38.9^\circ \cong 39^\circ$$

L'angolo di apertura misura circa  $39^\circ$ .

c)

Il rapporto tra i volumi delle due sfere, inscritta e circoscritta a C.

Poiché il volume di una sfera è  $V(\text{sfera}) = \frac{4}{3}\pi R^3$ , occorre trovare il raggio della sfera circoscritta al cono C.



Sia R il raggio della sfera e indichiamo con x l'altezza VH del cono (in figura è rappresentata una sezione del cono inscritto nella sfera ottenuta con un piano passante per il vertice V del cono e per la retta della sua altezza VH). Risulta:

$$0 < x < 2R$$

Per il secondo teorema di Euclide si ha:

$$AH^2 = VH \cdot HC = x(2R - x) \text{ da cui:}$$

$$(6\sqrt{2})^2 = 24(2R - 24), \quad 72 = 48(R - 12), \quad \frac{3}{2} = R - 12, \quad R = \frac{27}{2} \text{ cm}$$

Il rapporto fra i volumi delle sfere inscritta e circoscritta al cono C è dato dal rapporto fra i cubi dei rispettivi raggi, quindi:

$$\frac{V(\text{sfera inscritta})}{V(\text{sfera circoscritta})} = \frac{6^3}{\left(\frac{27}{2}\right)^3} = \frac{64}{729}$$

Con la collaborazione di Angela Santamaria