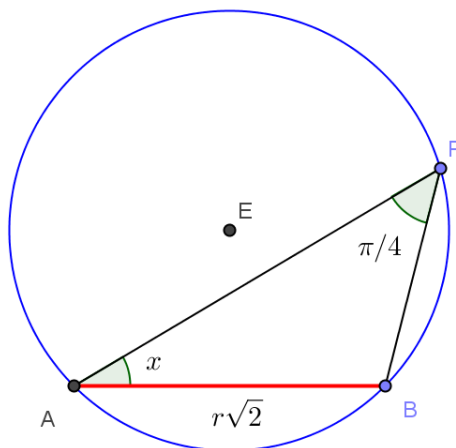


**PNI 2008 SESSIONE SUPPLETIVA - PROBLEMA 1**

Siano dati un cerchio di raggio  $r$  ed una sua corda  $AB$  uguale al lato del quadrato in esso inscritto.



Il lato  $AB$  del quadrato inscritto misura  $r\sqrt{2}$ ; inoltre l'angolo  $APB$  vale  $\frac{\pi}{4}$ .

**1)**

Detto  $P$  un generico punto della circonferenza, giacente sull'arco maggiore di estremi  $A$  e  $B$ , si consideri il rapporto:

$$\frac{PA^2 + PB^2}{AB^2}$$

e lo si esprima in funzione di  $X = \text{tg} \hat{P}AB$ .

L'angolo  $\hat{P}AB = x$  ha le seguenti limitazioni:  $0 \leq x \leq \frac{3}{4}\pi$ .

Risulta (per il teorema della corda):

$$PA = 2r \cdot \text{sen} \left( \frac{3}{4}\pi - x \right), \quad PB = 2r \cdot \text{sen} x, \quad \text{quindi:}$$

$$\frac{PA^2 + PB^2}{AB^2} = \frac{4r^2 \cdot \text{sen}^2 \left( \frac{3}{4}\pi - x \right) + 4r^2 \cdot \text{sen}^2 x}{2r^2} = 2\text{sen}^2 \left( \frac{3}{4}\pi - x \right) + 2\text{sen}^2 x =$$

$$= 2 \left( \sin \frac{3}{4} \pi \cos x - \sin x \cos \frac{3}{4} \pi \right)^2 + 2 \sin^2 x = 2 \left( \frac{\sqrt{2}}{2} \cos x + \frac{\sqrt{2}}{2} \sin x \right)^2 + 2 \sin^2 x =$$

$$= (\cos x + \sin x)^2 + 2 \sin^2 x = \cos^2 x + 2 \sin x \cos x + 3 \sin^2 x = \frac{PA^2 + PB^2}{AB^2}$$

Esprimiamo il rapporto in funzione di  $X = \operatorname{tg} P\hat{A}B = \operatorname{tg} x$ .

Notiamo che la funzione può essere riscritta nella seguente forma:

$$f(x) = \cos^2 x + 2 \sin x \cos x + 3 \sin^2 x = \frac{1 + \cos 2x}{2} + \sin 2x + 3 \frac{1 - \cos 2x}{2} =$$

$$= \sin 2x - \cos 2x + 2 = \frac{2 \operatorname{tg} x}{1 + \operatorname{tg}^2 x} - \frac{1 - \operatorname{tg}^2 x}{1 + \operatorname{tg}^2 x} + 2 = \frac{3 \operatorname{tg}^2 x + 2 \operatorname{tg} x + 1}{1 + \operatorname{tg}^2 x}$$

Quindi, ponendo  $X = \operatorname{tg} P\hat{A}B = \operatorname{tg} x$  si ha:

$$f(X) = \frac{3X^2 + 2X + 1}{1 + X^2}$$

**2)**

Si studi la funzione  $f(x)$  così ottenuta e si tracci il suo grafico  $\gamma$ , indipendentemente dai limiti posti dal problema geometrico.

$$y = f(X) = \frac{3X^2 + 2X + 1}{1 + X^2}$$

**Dominio:**  $-\infty < X < +\infty$

**Simmetrie notevoli:**

Essendo  $f(-X) = \frac{3X^2 - 2X + 1}{1 + X^2}$  diverso sia da  $f(X)$  che da  $-f(X)$  la funzione non né pari né dispari.

**Intersezioni con gli assi cartesiani:**

Se  $X = 0$ ,  $y = 1$ .

Se  $y = 0$ ,  $3X^2 + 2X + 1 = 0$ ,  $\Delta < 0$ , nessuna soluzione

**Segno della funzione:**

$$y > 0 \text{ se } -t^2 + 2t + 1 > 0 \Rightarrow t^2 - 2t - 1 < 0 \Rightarrow 1 - \sqrt{2} < t < 1 + \sqrt{2}$$

**Limiti:**

$$\lim_{X \rightarrow \pm\infty} \frac{3X^2 + 2X + 1}{1 + X^2} = 3 \quad : \quad y = 3 \text{ asintoto orizzontale}$$

Non ci sono asintoti verticali né obliqui.

Eventuali intersezioni con l'asintoto orizzontale:

$$\frac{3X^2+2X+1}{1+X^2} = 3, \quad 3X^2 + 2X + 1 = 3 + 3X^2, \quad X = 1, \quad : C=(1;3)$$

**Derivata prima:**

$$\frac{d}{dX} \left( \frac{3X^2 + 2X + 1}{1 + X^2} \right) = \frac{-2X^2 + 4X + 2}{(X^2 + 1)^2}$$

$$f'(X) \geq 0 \text{ se } -2X^2 + 4X + 2 \geq 0 \Rightarrow X^2 - 2X - 2 \leq 0 : 1 - \sqrt{2} \leq X \leq 1 + \sqrt{2}$$

Pertanto la funzione è crescente se  $1 - \sqrt{2} \leq X \leq 1 + \sqrt{2}$  e decrescente se

$$X < 1 - \sqrt{2} \text{ oppure } X > 1 + \sqrt{2}$$

$$X = 1 - \sqrt{2} \quad \text{punto di minimo relativo (e assoluto), } f(1 - \sqrt{2}) \cong 0.59$$

$$X = 1 + \sqrt{2} \quad \text{punto di massimo relativo (e assoluto), } f(1 + \sqrt{2}) \cong 3.41$$

**Derivata seconda:**

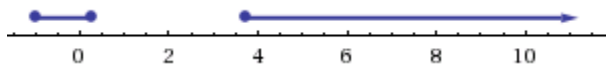
$$\frac{d^2}{dX^2} \left( \frac{3X^2 + 2X + 1}{1 + X^2} \right) = \frac{4(X^3 - 3X^2 - 3X + 1)}{(X^2 + 1)^3}$$

$$f''(X) \geq 0 \text{ se } X^3 - 3X^2 - 3X + 1 \geq 0, \quad (X+1)(X^2-4X+1) \geq 0,$$

$$-1 \leq X \leq 2 - \sqrt{3}$$

$$X \geq 2 + \sqrt{3}$$

Il grafico della funzione volge quindi la concavità verso l'alto nei seguenti intervalli:



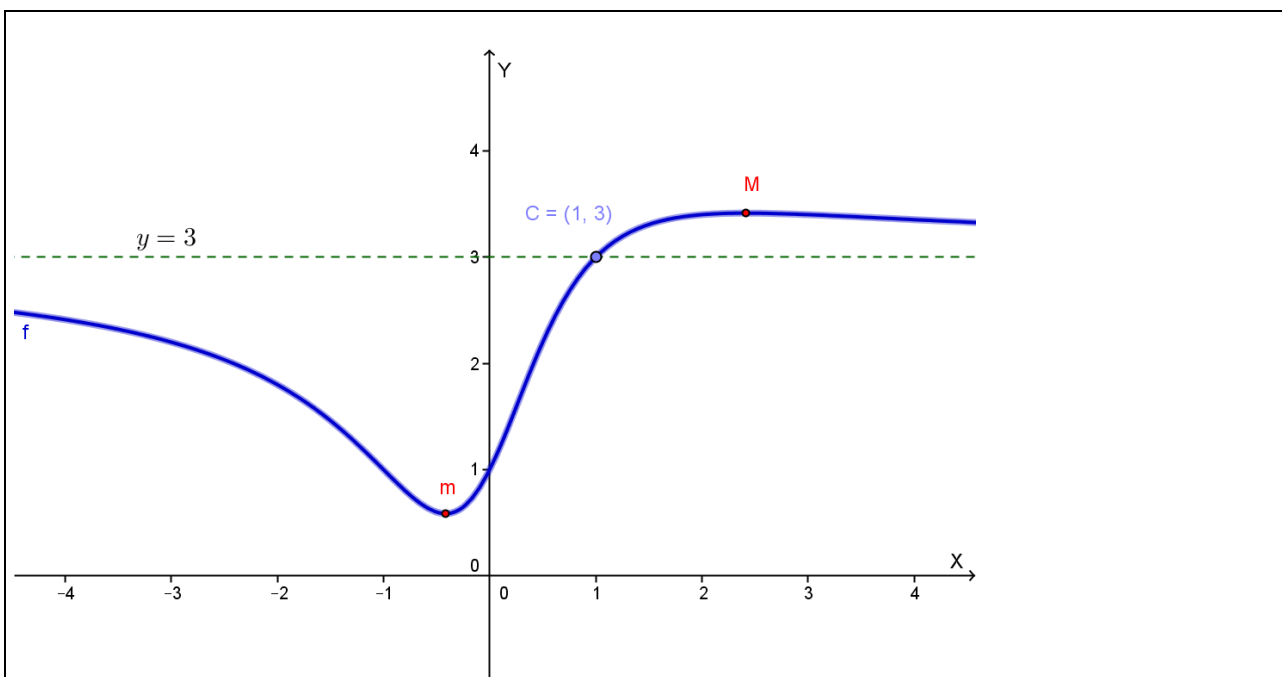
Abbiamo tre punti di flesso:

$$X = -1, \quad f(-1) = 1$$

$$X = 2 - \sqrt{3}, \quad f(2 - \sqrt{3}) \cong 1.66$$

$$X = 2 + \sqrt{3}, \quad f(2 + \sqrt{3}) \cong 3.37$$

Il grafico della funzione è il seguente:



### Osservazione

Analizziamo la funzione di equazione:

$$y = f(x) = \cos^2 x + 2\operatorname{sen}x\cos x + 3\operatorname{sen}^2 x$$

Notiamo che può essere riscritta nella seguente forma:

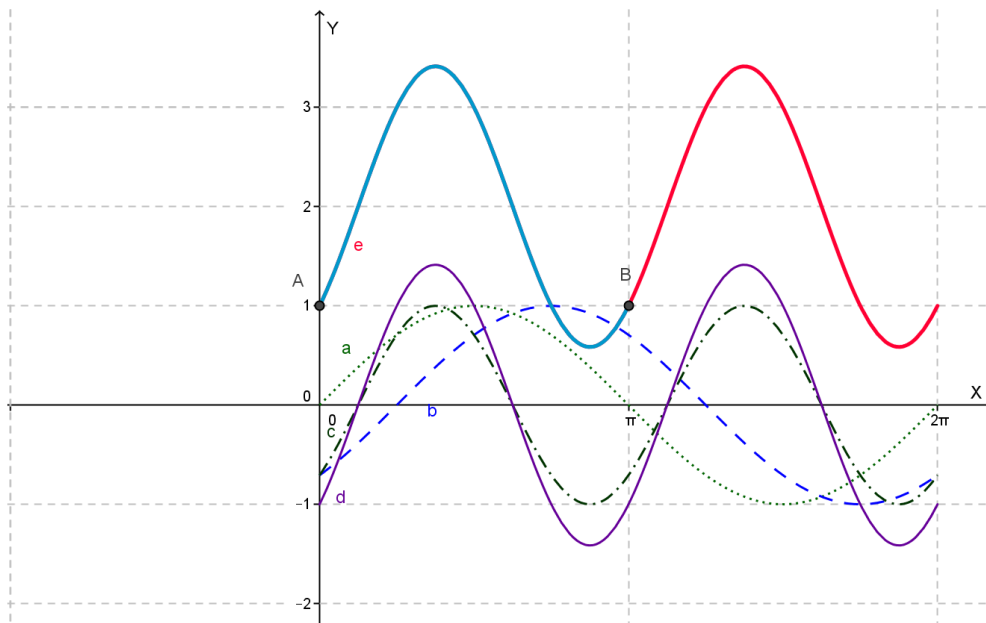
$$\begin{aligned} f(x) &= \cos^2 x + 2\operatorname{sen}x\cos x + 3\operatorname{sen}^2 x = \frac{1 + \cos 2x}{2} + \operatorname{sen} 2x + 3 \frac{1 - \cos 2x}{2} = \\ &= \operatorname{sen} 2x - \cos 2x + 2 = \sqrt{2} \cdot \operatorname{sen} \left( 2x - \frac{\pi}{4} \right) + 2 \end{aligned}$$

Quindi:

$$f(x) = \sqrt{2} \cdot \operatorname{sen} \left( 2x - \frac{\pi}{4} \right) + 2 \quad (\text{periodo } T = \pi)$$

Il grafico di questa funzione si deduce dal grafico della funzione seno mediante le seguenti operazioni:

- a)  $y = \operatorname{sen} x$
- b)  $y = \operatorname{sen} \left( x - \frac{\pi}{4} \right)$  : traslazione di vettore  $\left( \frac{\pi}{4}; 0 \right)$
- c)  $y = \operatorname{sen} \left( 2x - \frac{\pi}{4} \right)$  : contrazione orizzontale di fattore 2
- d)  $y = \sqrt{2} \operatorname{sen} \left( 2x - \frac{\pi}{4} \right)$  : dilatazione verticale di fattore  $\sqrt{2}$
- e)  $y = \sqrt{2} \operatorname{sen} \left( 2x - \frac{\pi}{4} \right) + 2$  : traslazione di vettore  $(0; 2)$

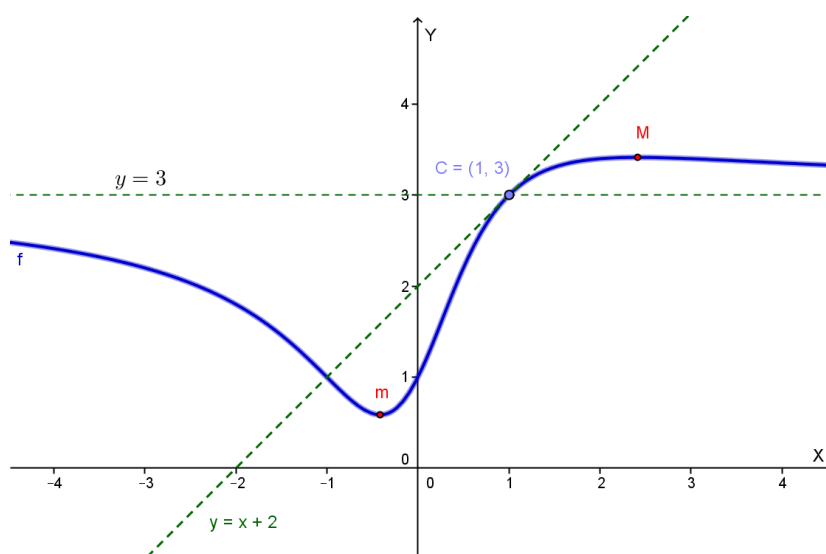


3)

Detto  $C$  il punto d'intersezione della curva  $\gamma$  con il suo asintoto orizzontale, si scriva l'equazione della tangente a  $\gamma$  in  $C$ .

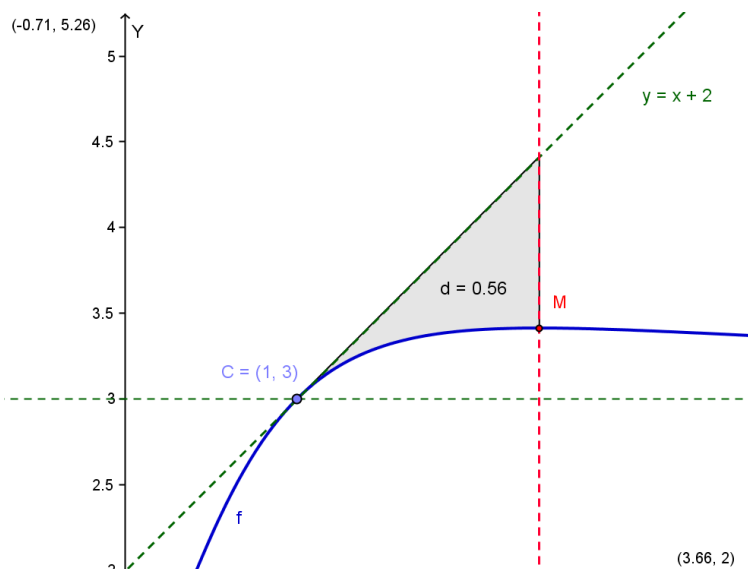
$C=(1;3)$ ;  $f'(1) = 1$  . La tangente in  $C$  ha equazione:

$$y - 3 = f'(1)(x - 1), \quad y = x + 2$$



4)

Si calcoli l'area della parte finita di piano compresa tra la curva  $\gamma$ , la suddetta tangente e la retta di equazione  $x = k$ , essendo  $k$  l'ascissa del punto di massimo relativo.



L'area richiesta si ottiene calcolando il seguente integrale.

$$\begin{aligned}
 \text{Area} &= \int_1^{1+\sqrt{2}} f(X) dX = \int_1^{1+\sqrt{2}} \left( X + 2 - \frac{3X^2 + 2X + 1}{1 + X^2} \right) dX = \\
 &= \int_1^{1+\sqrt{2}} \left( X + 2 - \frac{3X^2 + 3 + 2X - 2}{1 + X^2} \right) dX = \int_1^{1+\sqrt{2}} \left( X + 2 - \frac{3(X^2 + 1) + 2X - 2}{1 + X^2} \right) dX = \\
 &= \int_1^{1+\sqrt{2}} \left( X + 2 - 3 - \frac{2X}{1 + X^2} + \frac{2}{1 + X^2} \right) dX = \left[ \frac{1}{2}(X - 1)^2 - \ln(1 + X^2) + 2\text{arctg}(X) \right]_1^{1+\sqrt{2}} = \\
 &= 1 - \ln(4 + 2\sqrt{2}) + 2\text{arctg}(1 + \sqrt{2}) - (-\ln 2 + 2\text{arctg}(1)) = \\
 &= 1 - \ln 2 - \ln(2 + \sqrt{2}) + 2 \cdot \frac{3\pi}{8} + \ln 2 - 2 \cdot \frac{\pi}{4} = 1 - \ln(2 + \sqrt{2}) + \frac{\pi}{4} \cong 0.557 = \text{Area}
 \end{aligned}$$

Con la collaborazione di Angela Santamaria, Simona Scoleri e Stefano Scoleri