

PNI 2008 – SESSIONE STRAORDINARIA - PROBLEMA 1

Con riferimento ad un sistema di assi cartesiani ortogonali Oxy , si trattino le seguenti questioni.

1)

Si costruisca il grafico γ della funzione $f(x) = 2(2 - x)\sqrt{x^2 - 1}$.

Dominio:

$$x^2 - 1 \geq 0 : -\infty < x \leq -1, 1 \leq x < +\infty$$

Simmetrie notevoli:

Siccome $f(-x)$ è diversa sia da $f(x)$ sia da $-f(x)$ la funzione non è pari né dispari.

Intersezioni con gli assi cartesiani:

$x=0$: non ha senso

$y=0$: $x=2, x=1, x=-1$

Segno della funzione:

$f(x) \geq 0$ se $2 - x \geq 0$, $x \leq 2$ (nel dominio della funzione)

Limiti:

$$\lim_{x \rightarrow -\infty} 2(2 - x)\sqrt{x^2 - 1} = +\infty :$$

non può esserci asintoto obliquo poiché la funzione non è un infinito del primo ordine.

$$\lim_{x \rightarrow +\infty} 2(2 - x)\sqrt{x^2 - 1} = -\infty :$$

non può esserci asintoto obliquo poiché la funzione non è un infinito del primo ordine.

Non esistono asintoti di alcun tipo.

Derivata prima:

$$f'(x) = -2\sqrt{x^2 - 1} + 2(2 - x) \frac{2x}{2\sqrt{x^2 - 1}} = \frac{-4x^2 + 4x + 2}{\sqrt{x^2 - 1}} \geq 0 \text{ se } -4x^2 + 4x + 2 \geq 0,$$

$$2x^2 - 2x - 1 \leq 0, \quad \frac{1 - \sqrt{3}}{2} \leq x \leq \frac{\sqrt{3} + 1}{2}$$

Risulta: $\frac{1 - \sqrt{3}}{2} \cong -0.37$ e $\frac{\sqrt{3} + 1}{2} \cong 1.37$

Quindi, tenendo conto del dominio: $f'(x) \geq 0$ se $1 < x \leq \frac{\sqrt{3} + 1}{2}$; osserviamo che la funzione non è derivabile in $x=1$ ed $x=-1$ (dai limiti della derivata prima si scopre che in tali punti c'è tangente verticale).

La funzione è pertanto crescente se $1 < x < \frac{\sqrt{3} + 1}{2}$ e decrescente se $x < -1$, $x > \frac{\sqrt{3} + 1}{2}$

Presenta un massimo relativo per $x = \frac{\sqrt{3} + 1}{2}$, la cui ordinata è $f\left(\frac{\sqrt{3} + 1}{2}\right) \cong 1.18$.

Derivata seconda:

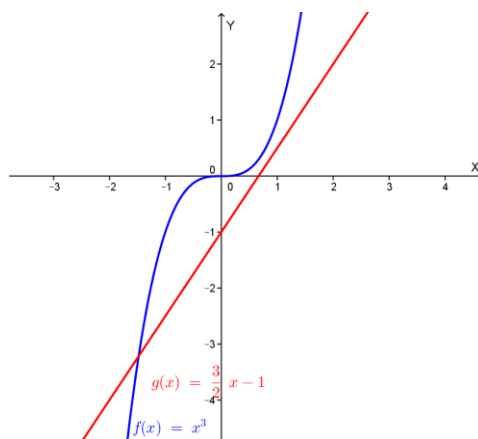
$$f''(x) = \frac{(-8x + 4)\sqrt{x^2 - 1} - (-4x^2 + 4x + 2) \cdot \frac{x}{\sqrt{x^2 - 1}}}{x^2 - 1} =$$

$$= \frac{(-8x + 4)(x^2 - 1) - x(-4x^2 + 4x + 2)}{(x^2 - 1)\sqrt{x^2 - 1}} = \frac{-4x^3 + 6x - 4}{(x^2 - 1)\sqrt{x^2 - 1}} \geq 0 \text{ se:}$$

$$-4x^3 + 6x - 4 \geq 0, \quad 2x^3 - 3x + 2 \leq 0$$

Tale disequazione equivale a: $x^3 \leq \frac{3}{2}x - 1$

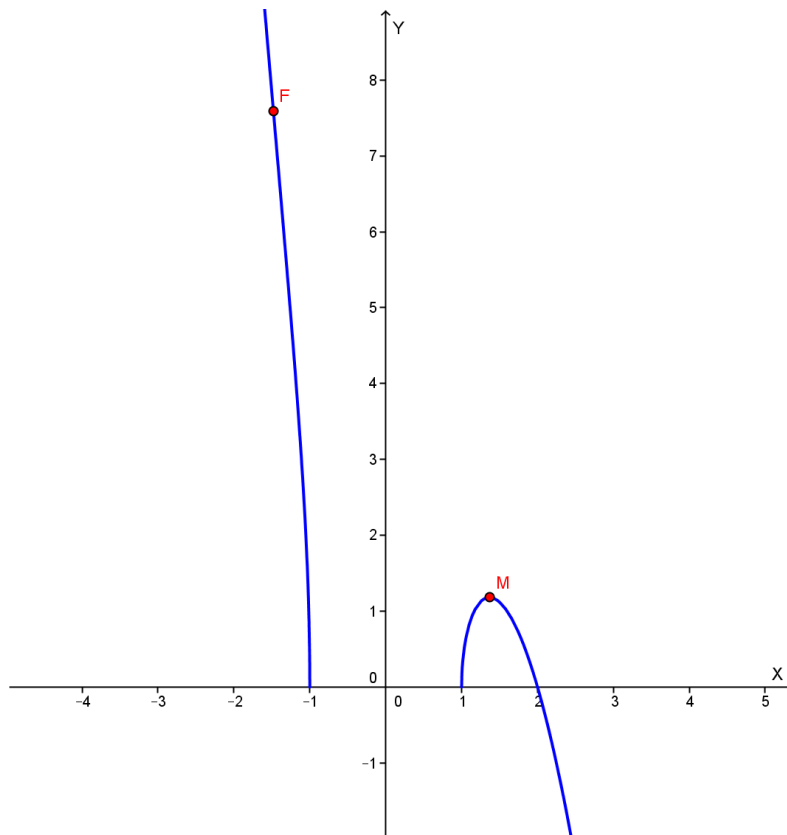
Rappresentiamo nello stesso sistema di riferimento le curve di equazione $y = x^3$ e $y = \frac{3}{2}x - 1$:



Deduciamo graficamente che $f''(x) \geq 0$ per $x \leq a$, con $-2 < a < -1$.

Quindi il grafico volge la concavità verso l'alto se $x < a$ e verso il basso se $x > a$ (sempre nel dominio della funzione). Pertanto in $x=a$ si ha un flesso; da uno studio più approfondito risulta: $a \cong -1.5$ ed $f(a) \cong 7.6$.

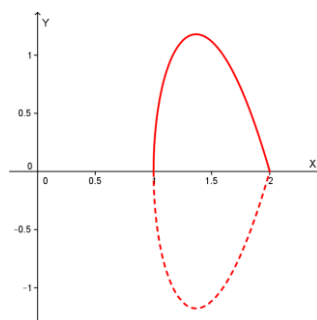
Il grafico della funzione è il seguente:



2)

Si determini il volume del solido generato, in una rotazione completa attorno all'asse x , dalla superficie piana, finita, delimitata da γ e dall'asse x .

Rappresentiamo graficamente la superficie indicata:



Il volume richiesto si ottiene calcolando il seguente integrale:

$$V = \pi \int_a^b f^2(x) dx = \pi \int_1^2 \left(2(2-x)\sqrt{x^2-1} \right)^2 dx = 4\pi \int_1^2 (2-x)^2(x^2-1) dx =$$

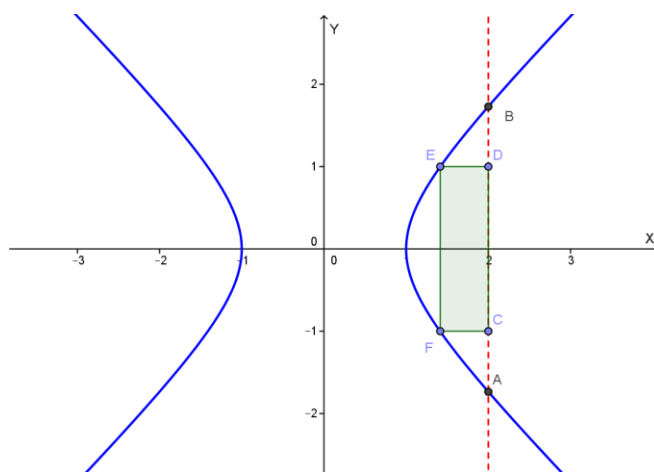
$$= 4\pi \int_1^2 (x^4 - 4x^3 + 3x^2 + 4x - 4)dx = 4\pi \cdot \left[\frac{1}{5}x^5 - x^4 + x^3 + 2x^2 - 4x \right]_1^2 = \frac{4}{5}\pi u^3 \cong$$

$$\cong 2.513 u^3 = V$$

3)

La retta $x = 2$ seca l'iperbole equilatera di equazione $x^2 - y^2 = 1$ nei punti A e B. Si inscriva nel segmento iperbolico di base AB il rettangolo di area massima. A tal fine, si indichi con x l'ascissa dei vertici del generico rettangolo, inscritto nel segmento iperbolico, appartenenti all'iperbole e si utilizzi la curva γ .

Rappresentiamo graficamente l'iperbole ed il rettangolo:



Detti E ed F i vertici del rettangolo appartenenti all'iperbole, indicata con x la loro ascissa, l'ordinata di E (nel primo quadrante) è: $\sqrt{x^2 - 1}$.

L'area del rettangolo è:

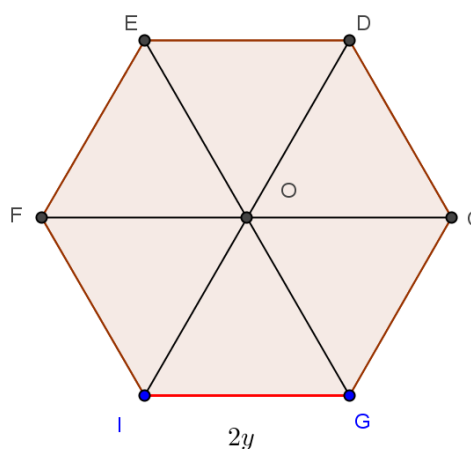
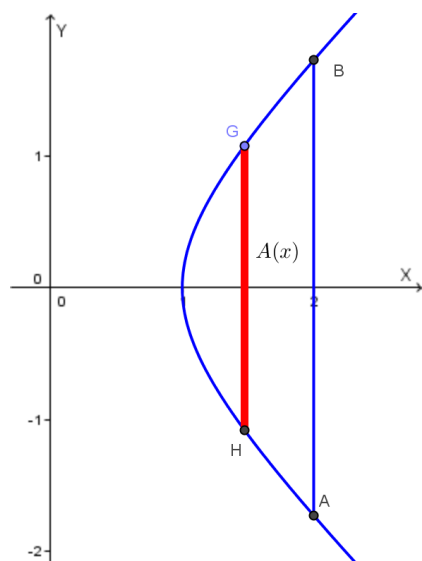
$$Area(EFCD) = ED \cdot EF = (2 - x) \cdot 2\sqrt{x^2 - 1} = f(x), \quad \text{equazione di } \gamma$$

L'area è quindi massima quando lo è $f(x)$, cioè per $x = \frac{\sqrt{3}+1}{2} \cong 1.37$. In corrispondenza di tale valore di x è facile determinare le coordinate dei vertici del rettangolo di area massima.

4)

Si calcoli il volume del solido che ha per base il segmento iperbolico prima considerato e tale che, tagliato con piani paralleli ad AB, dia tutte sezioni esagonali regolari.

Rappresentiamo graficamente la situazione proposta:



I piani paralleli ad AB siano perpendicolari all'asse x. Detta $A(x)$ l'area della sezione, il volume è dato da:

$$V = \int_a^b A(x) dx$$

$A(x)$ è l'area di un esagono regolare di lato $2y$, essendo $y = \sqrt{x^2 - 1}$ l'ordinata di G.

$$A(x) = p \cdot a = 6y \cdot 2y \cdot \frac{\sqrt{3}}{2} = 6\sqrt{3} y^2 = 6\sqrt{3} (x^2 - 1)$$

Quindi:

$$V = \int_a^b A(x) dx = V = \int_1^2 6\sqrt{3} (x^2 - 1) dx = 6\sqrt{3} \left[\frac{1}{3} x^3 - x \right]_1^2 = 6\sqrt{3} \cdot \frac{4}{3} = 8\sqrt{3} u^3 =$$

$$\cong 13.856 u^3 = V$$

Con la collaborazione di Angela Santamaria