

## PNI 2011 SESSIONE SUPPLETIVA - PROBLEMA 2

Si consideri la funzione:

$$f(x) = (3 - x)\sqrt{x + 3}$$

1)

Si studi tale funzione e si tracci il suo grafico  $\gamma$ , su un piano riferito ad un sistema di assi cartesiani ortogonali  $Oxy$ .

$$f(x) = (3 - x)\sqrt{x + 3}$$

**Dominio:**  $x \geq -3 \Rightarrow -3 \leq x < +\infty$

**Simmetrie notevoli:**

Visto il dominio, la funzione non può essere pari né dispari.

**Intersezioni con gli assi cartesiani:**

Se  $x = 0$ ,  $y = \sqrt{3}$ ; se  $y = 0$ ,  $x = 3$  e  $x = -3$

**Segno della funzione:**

$y \geq 0$  se  $x \leq 3$ .

**Limiti:**

$\lim_{x \rightarrow +\infty} (3 - x)\sqrt{x + 3} = -\infty$ ; non c'è asintoto obliquo perché la funzione non è un infinito del primo ordine per  $x$  che tende a più infinito.

**Derivata prima:**

$$f'(x) = D\left((3 - x)\sqrt{x + 3}\right) = -\sqrt{x + 3} + (3 - x) \cdot \frac{1}{2\sqrt{x + 3}} = \frac{-2x - 6 + 3 - x}{2\sqrt{x + 3}} = \frac{-3x - 3}{2\sqrt{x + 3}}$$
$$f'(x) \geq 0 \text{ se } -3x - 3 \geq 0, \quad x \leq -1 :$$

la funzione cresce per  $-3 \leq x < -1$  e decresce per  $-1 < x < +\infty$ .

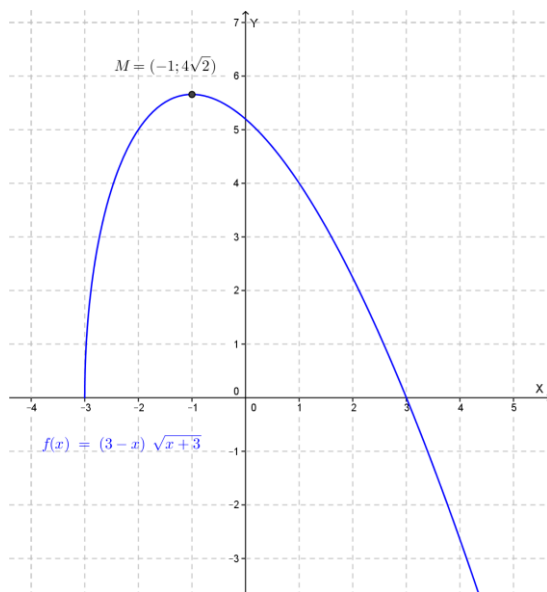
$x = -1$  punto di massimo relativo (e assoluto) con valore  $f(-1) = 4\sqrt{2}$ .

### Derivata seconda:

$$f''(x) = D\left(\frac{-3x-3}{2\sqrt{x+3}}\right) = \frac{-3x-15}{4\sqrt{(x+3)^3}} \geq 0 \quad \text{se } x \leq -5, \quad \text{cioè mai nel dominio}$$

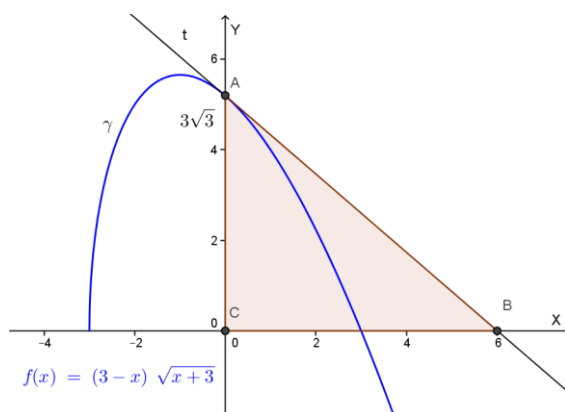
Quindi il grafico volge la sempre la concavità verso il basso. Non ci sono flessi.

Il grafico della funzione è il seguente:



2)

Si scriva l'equazione della tangente  $t$  alla curva  $\gamma$  nel punto di intersezione con l'asse  $y$  e si calcoli l'area del triangolo che essa forma con gli assi cartesiani.



Il punto di intersezione con l'asse delle  $y$  è  $A = (0; 3\sqrt{3})$ . La tangente in  $A$  è:

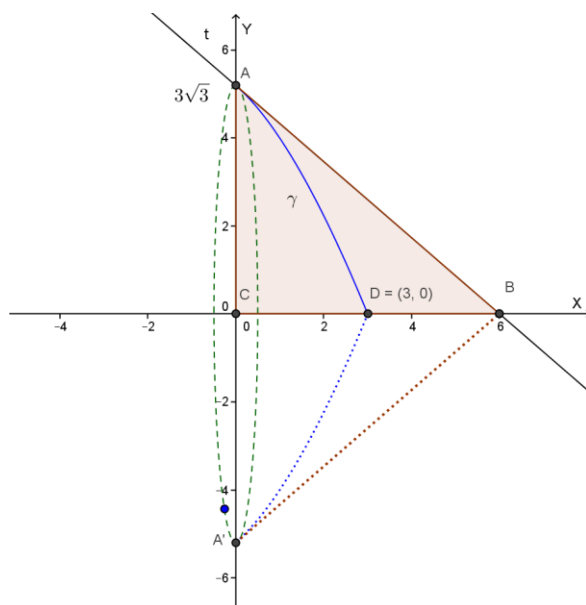
$$y - 3\sqrt{3} = f'(0) \cdot (x - 0) \quad \Rightarrow \quad y - 3\sqrt{3} = -\frac{3}{2\sqrt{3}} \cdot x \quad \Rightarrow \quad y = -\frac{\sqrt{3}}{2} x + 3\sqrt{3}$$

Il triangolo ABC che la tangente in A al grafico della funzione forma con gli assi cartesiani ha area:

$$A(ABC) = \frac{AC \cdot BC}{2} = \frac{3\sqrt{3} \cdot 6}{2} u^2 = 9\sqrt{3} u^2 \cong 15.59 u^2$$

3)

Si calcoli il volume del cono  $S$  generato da una rotazione attorno all'asse  $x$  del suddetto triangolo e il volume del solido  $S'$  generato dalla rotazione attorno all'asse  $x$  della porzione di piano, situata nel I quadrante, limitata dalla curva  $\gamma$  e dagli assi cartesiani.



Il volume del cono  $S$  è dato da:

$$V(\text{cono } S) = \frac{1}{3} \pi R^2 h = \frac{1}{3} \pi \cdot AC^2 \cdot BC = \frac{1}{3} \pi \cdot (3\sqrt{3})^2 \cdot 6 = 54 \pi u^3$$

Il volume del solido  $S'$  si ottiene calcolando il seguente integrale:

$$\begin{aligned} V(S') &= \pi \int_a^b f^2(x) dx = \pi \int_0^3 [(3-x)\sqrt{x+3}]^2 dx = \pi \int_0^3 (3-x)^2 (x+3) dx = \\ &= \pi \int_0^3 (x^3 - 3x^2 - 9x + 27) dx = \pi \left[ \frac{x^4}{4} - x^3 - \frac{9}{2}x^2 + 27x \right]_0^3 = \frac{135}{4} \pi u^3 \end{aligned}$$

4)

Si scelga a caso un punto all'interno del cono  $S$ . Si determini la probabilità che tale punto risulti esterno al solido  $S'$ .

$$p = \frac{V(\text{cono } S) - V(S')}{V(\text{cono } S)} = 1 - \frac{V(S')}{V(\text{cono } S)} = 1 - \frac{\frac{135}{4}\pi}{54\pi} = 1 - \frac{135}{4 \cdot 54} = 1 - \frac{5}{8} =$$
$$= \frac{3}{8} = 0.375 = 37.5\% = p$$