

## AMERICHE 2016 - PROBLEMA 1

Considerata la funzione  $G: \mathbb{R} \rightarrow \mathbb{R}$  è così definita:

$$G(x) = \int_0^{2x} e^t \operatorname{sen}^2(t) dt$$

svolgi le richieste che seguono.

**1)**

Discuti campo di esistenza, continuità e derivabilità della funzione  $G(x)$ . Individua gli intervalli di positività/negatività e le eventuali intersezioni con gli assi cartesiani.

Osserviamo che la funzione integranda  $g(x) = e^x \operatorname{sen}^2(x)$  è definita, continua e derivabile su tutto l'asse reale. Per il teorema fondamentale del calcolo integrale (unito al teorema sulla derivata della funzione composta) **la  $G$  è definita, derivabile (e quindi continua) su tutto  $\mathbb{R}$** . Ricordiamo che:

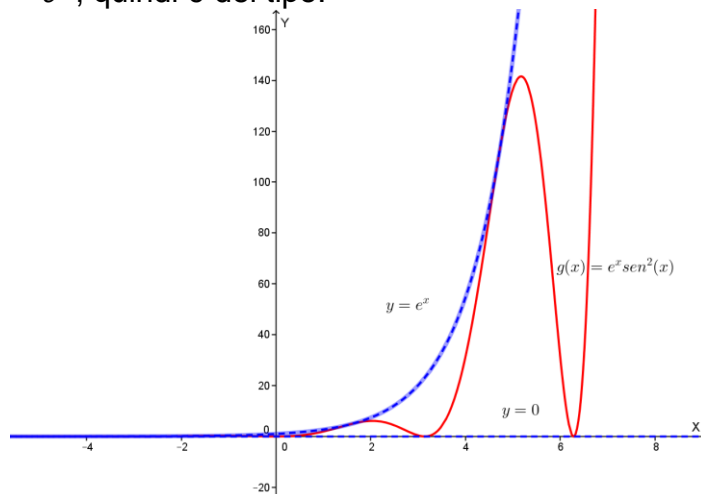
Se  $G(x) = \int_a^{h(x)} g(t) dt$  allora  $G'(x) = g(h(x)) \cdot h'(x)$ . Nel nostro caso si ha:

$$G'(x) = 2e^{2x} \operatorname{sen}^2(2x)$$

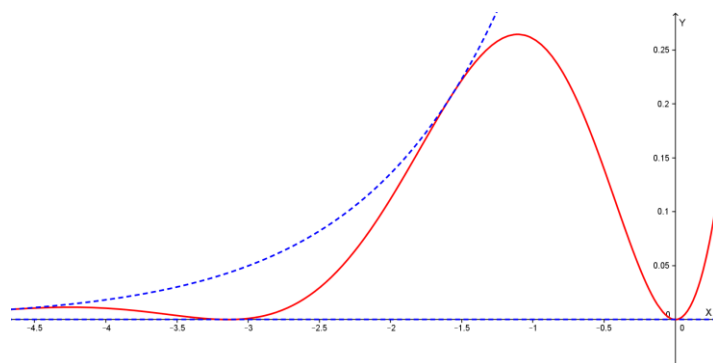
**Studiamo la positività di  $G(x)$ .**

La funzione  $g(x) = e^x \operatorname{sen}^2(x)$  è sempre positiva o nulla, in particolare, essendo

$0 \leq \operatorname{sen}^2(x) \leq 1$  si ha che  $0 \leq e^x \operatorname{sen}^2(x) \leq e^x$ ; il grafico di  $g(x)$  è quindi compreso fra i grafici di  $y = 0$  e  $y = e^x$ , quindi è del tipo:



Mostriamo un ingrandimento del grafico per  $x < 0$ :



Possiamo quindi concludere (tenendo presente il significato geometrico della funzione integrale, legato all'area della regione delimitata dal grafico della funzione integranda e dall'asse  $x$  nell'intervallo  $[0, 2x]$ ) che:

Se  $x > 0$ ,  $G(x) > 0$  (... l'area va aumentando, e tende a più infinito per  $x \rightarrow +\infty$ )

Se  $x < 0$  risulta:

$G(x) = \int_0^{2x} e^t \operatorname{sen}^2(t) dt = - \int_{2x}^0 e^t \operatorname{sen}^2(t) dt < 0$  (... l'area fra  $2x$  e  $0$  al crescere di  $x$  da meno infinito a zero diminuisce quindi  $G(x)$  aumenta perché equivale alla suddetta area cambiata di segno).

Se  $x=0$   $G(x)=0$ . Conclusione sul segno della funzione:

$G(x) > 0$  se  $x > 0$ ,  $G(x) < 0$  se  $x < 0$ ,  $G(x) = 0$  se  $x = 0$ .

### Eventuali intersezioni con gli assi cartesiani.

Abbiamo già osservato che se  $x = 0$ ,  $G(x) = 0$ , quindi il grafico passa per l'origine degli assi cartesiani. In base a quanto osservato nello studio del segno della funzione, non abbiamo altre intersezioni con gli assi cartesiani.

## 2)

Determina l'esistenza degli asintoti della funzione  $G(x)$ , motivando opportunamente la risposta.

Trattandosi di una funzione continua su tutto l'asse reale non possono esserci asintoti verticali.

Abbiamo già osservato che se  $x \rightarrow +\infty$  la funzione tende a  $+\infty$ , quindi potrebbe esserci asintoto obliquo. Essendo la funzione derivabile, è necessario che  $G'(x) \rightarrow m$  (valore finito e coefficiente angolare dell'eventuale asintoto) per  $x \rightarrow +\infty$ . Abbiamo già detto che:

$G'(x) = 2e^{2x} \operatorname{sen}^2(2x)$  e questa funzione, per  $x \rightarrow +\infty$ , non ammette limite, essendo:

$$0 \leq 2e^{2x} \operatorname{sen}^2(2x) \leq 2e^{2x}$$

(la funzione si annulla infinite volte ma oscilla tra 0 e valori sempre più grandi; per farsi un'idea si può osservare l'andamento della funzione  $e^x \operatorname{sen}^2(x)$  indicato precedentemente).

Quindi: per  $x \rightarrow +\infty$  non ci sono asintoti.

Vediamo ora cosa succede se  $x \rightarrow -\infty$ . Come già detto risulta  $0 \leq e^x \operatorname{sen}^2(x) \leq e^x$ . Quindi se  $x \rightarrow -\infty$  l'area compresa fra il grafico di  $g(x) = e^x \operatorname{sen}^2(x)$  e l'asse  $x$  fino ad  $x=0$  è inferiore all'area fra il grafico di  $y = e^x$  e l'asse  $x$  da  $-\infty$  fino a zero; valutiamo quest'ultima area calcolando il seguente integrale:

$$\int_{-\infty}^0 e^t dt = \lim_{a \rightarrow -\infty} \int_a^0 e^t dt = \lim_{a \rightarrow -\infty} [e^t]_a^0 = \lim_{a \rightarrow -\infty} (1 - e^a) = 1 - 0 = 1.$$

Pertanto l'area compresa fra il grafico di  $g(x) = e^x \operatorname{sen}^2(x)$  e l'asse  $x$  da  $-\infty$  a 0 è un numero  $k$  positivo ma inferiore ad 1. Pertanto, se  $x \rightarrow -\infty$ ,  $G(x) \rightarrow -k$ , con  $0 < k < 1$ : quindi abbiamo l'asintoto orizzontale  $y = -k$ , con  $0 < k < 1$ , se  $x \rightarrow -\infty$

### 3)

Individua i punti stazionari della funzione  $G(x)$ , riconoscendone la tipologia, e i punti di flesso. Disegna quindi il grafico della funzione, motivando le scelte fatte.

I **punti stazionari** sono quelli in cui si annulla la derivata prima (punti a tangente orizzontale), quindi si ricavano risolvendo la seguente equazione:

$$G'(x) = 2e^{2x} \operatorname{sen}^2(2x) = 0 \Rightarrow \operatorname{sen}^2(2x) = 0, \quad 2x = k\pi, \quad x = \frac{k\pi}{2} \text{ con } k \in \mathbb{Z}.$$

Notiamo che  $G'(x) = 2e^{2x} \operatorname{sen}^2(2x) \geq 0$  per ogni  $x$ , quindi  $G(x)$  è sempre crescente: i punti stazionari sono tutti punti di flesso a tangente orizzontale.

**Cerchiamo i punti di flesso.**

$$\begin{aligned} G''(x) &= 4e^{2x} \operatorname{sen}^2(2x) + 2e^{2x} (2\operatorname{sen}(2x)\cos(2x)) \cdot 2 = \\ &= 4e^{2x} [\operatorname{sen}^2(2x) + 2\operatorname{sen}(2x)\cos(2x)] \geq 0 \text{ se } \operatorname{sen}^2(2x) + 2\operatorname{sen}(2x)\cos(2x) \geq 0 \\ \operatorname{sen}(2x)(\operatorname{sen}(2x) + 2\cos(2x)) &\geq 0 \end{aligned}$$

Studiamo il segno dei due fattori del prodotto:

$$\operatorname{sen}(2x) \geq 0 \text{ se } 2k\pi \leq 2x \leq \pi + 2k\pi \text{ da cui } k\pi \leq x \leq \frac{\pi}{2} + k\pi, \text{ con } k \in \mathbb{Z}$$

$$\operatorname{sen}(2x) + 2\cos(2x) \geq 0, \quad 2\operatorname{sen}(x)\cos(x) + 2\cos^2(x) - 2\operatorname{sen}^2(x) \geq 0,$$

se  $\cos(x) = 0$  abbiamo  $-2\operatorname{sen}^2(x) \geq 0, -2 \geq 0$  mai

(osserviamo che se  $\cos(x)=0$  allora  $\operatorname{sen}(x) = \pm 1$ )

Se  $\cos(x) \neq 0$  dividendo la  $2\operatorname{sen}(x)\cos(x) + 2\cos^2(x) - 2\operatorname{sen}^2(x) \geq 0$  per  $\cos^2 x$

otteniamo:

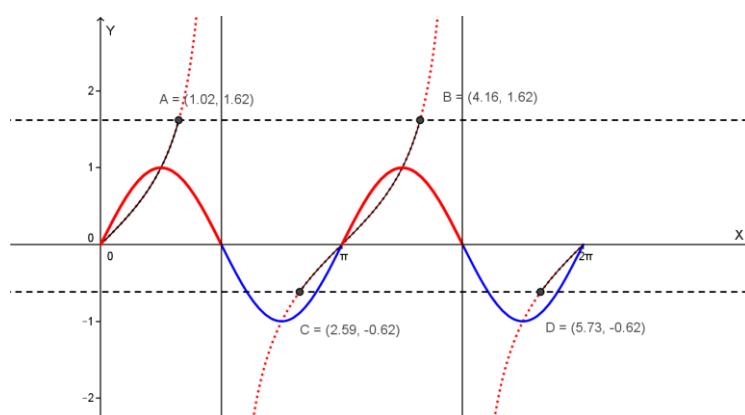
$$2\operatorname{tg}(x) + 2 - 2\operatorname{tg}^2(x) \geq 0, \quad \operatorname{tg}^2(x) - \operatorname{tg}(x) - 1 \leq 0, \quad \frac{1 - \sqrt{5}}{2} \leq \operatorname{tg}(x) \leq \frac{1 + \sqrt{5}}{2}$$

Risolviamo graficamente la disequazione

$$\operatorname{sen}(2x)(\operatorname{sen}(2x) + 2 \cos(2x)) \geq 0$$

nell'intervallo  $[0; 2\pi]$  dopo aver osservato che:  $\frac{1 - \sqrt{5}}{2} \cong -0.62$ ,  $\frac{1 + \sqrt{5}}{2} \cong 1.62$

Nel grafico sono marcati i tratti in cui il primo ed il secondo fattore sono positivi:



La disequazione è verificata dove i due fattori sono entrambi positivi/nulli o entrambi negativi/nulli, quindi negli intervalli:

$$2k\pi \leq x \leq 1.02 + 2k\pi, \quad \frac{\pi}{2} + 2k\pi \leq x \leq 2.59 + 2k\pi, \quad \pi + 2k\pi \leq x \leq 4.16 + 2k\pi, \\ \frac{3}{2}\pi + 2k\pi \leq x \leq 5.73 + 2k\pi \quad (k \text{ è intero relativo}).$$

(ricordiamo che in  $x = \frac{\pi}{2} + k\pi$   $\operatorname{sen}(2x)(\operatorname{sen}(2x) + 2 \cos(2x)) = 0$ ).

In tali intervalli risulta  $G''(x) \geq 0$ , quindi  $G$  ha dei flessi nei punti:

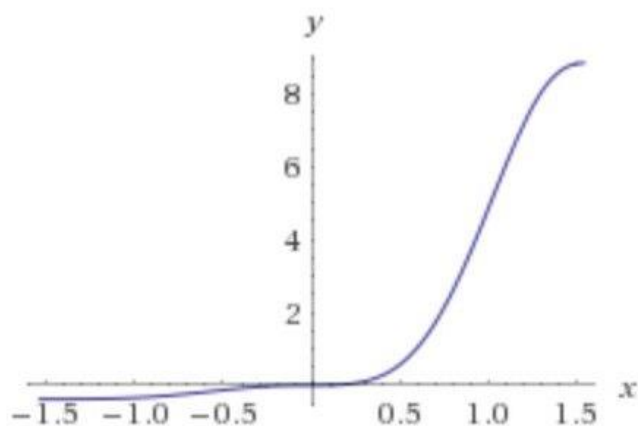
$$x = 2k\pi, \quad x = 1.02 + 2k\pi, \quad x = 2.59 + 2k\pi, \quad x = \pi + 2k\pi, \quad x = 4.16 + 2k\pi, \\ x = 5.73 + 2k\pi \text{ ed anche in } x = \frac{\pi}{2} + k\pi.$$

Notiamo che

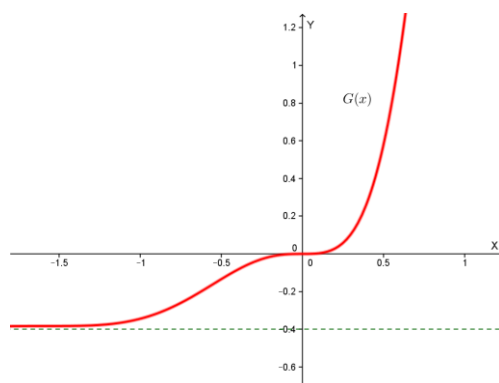
$$1.02 = \operatorname{arctg}\left(\frac{1 + \sqrt{5}}{2}\right) = \alpha, \quad 2.59 = \operatorname{arctg}\left(\frac{1 - \sqrt{5}}{2}\right) = \beta, \quad 4.16 = \pi + \alpha, \quad 5.73 = \pi + \beta$$

Ricordiamo anche che per  $x = \frac{k\pi}{2}$  con  $k \in \mathbb{Z}$   $G$  ha dei flessi a tangente orizzontale.

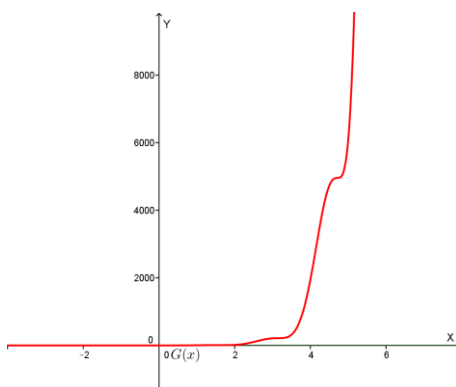
Grafico qualitativo di G:



Altro grafico di G con evidenziato l'asintoto orizzontale.



Altro grafico di G dove si vedono più flessi per x>0:



Notiamo che, anche se non richiesto, la funzione G ha la seguente equazione (che si può ottenere calcolando per parti l'integrale che definisce G):

$$-\frac{2}{5} - \frac{1}{10} e^{2x} (-5 + \cos(4x) + 2 \sin(4x))$$

4)

Studia l'andamento dei coefficienti angolari delle rette tangenti alla funzione  $G(x)$  nei suoi punti di flesso a tangente obliqua, determinando in particolare se tali rette formano un fascio di rette parallele.

I punti di flesso a tangente obliqua sono:

$$x = 1.02 + 2k\pi = \alpha + 2k\pi ,$$

$$x = 2.59 + 2k\pi = \beta + 2k\pi ,$$

$$x = 4.16 + 2k\pi = \pi + \alpha + 2k\pi = \alpha + (2k + 1)\pi ,$$

$$x = 5.73 + 2k\pi = \pi + \beta + 2k\pi = \beta + (2k + 1)\pi$$

che si possono riassumere in:  $x = \alpha + k\pi$  e  $x = \beta + k\pi$  (flessi a tangente obliqua).

Ricordiamo che  $G'(x) = 2e^{2x}\text{sen}^2(2x)$ .

Ricordiamo la seguente formula goniometrica:  $\text{sen}(2x) = \frac{2\text{tg}(x)}{1+\text{tg}^2(x)}$ ; quindi si ha:

$$x = \alpha + k\pi \text{ risulta: } \text{sen}(2\alpha) = \frac{2\text{tg}(\alpha)}{1+\text{tg}^2(\alpha)} = \frac{2 \cdot \frac{1+\sqrt{5}}{2}}{1+\left(\frac{1+\sqrt{5}}{2}\right)^2} = \frac{2\sqrt{5}}{5}$$

$$x = \beta + k\pi \text{ risulta: } \text{sen}(2\beta) = \frac{2\text{tg}(\beta)}{1+\text{tg}^2(\beta)} = \frac{2 \cdot \frac{1-\sqrt{5}}{2}}{1+\left(\frac{1-\sqrt{5}}{2}\right)^2} = -\frac{2\sqrt{5}}{5}$$

Studiamo il coefficiente angolare nei punti di flesso  $x = \alpha + k\pi$  è quindi:

$$G'(\alpha + k\pi) = 2e^{2(\alpha+k\pi)} \left(\frac{2\sqrt{5}}{5}\right)^2 = \frac{8}{5}e^{2(\alpha+k\pi)} = \left(\frac{8}{5}e^{2\alpha}\right)e^{2k\pi}$$

$$\text{Se } k \rightarrow +\infty, \left(\frac{8}{5}e^{2\alpha}\right)e^{2k\pi} \rightarrow +\infty$$

$$\text{Se } k \rightarrow -\infty, \left(\frac{8}{5}e^{2\alpha}\right)e^{2k\pi} \rightarrow 0^+$$

I coefficienti angolari nei punti di flesso  $x = \alpha + k\pi$  variano al variare di  $k$ , quindi le tangenti inflessionali non formano un fascio di rette parallele.

Studiamo il coefficiente angolare nei punti di flesso  $x = \beta + k\pi$  è quindi:

$$G'(\beta + k\pi) = 2e^{2(\beta+k\pi)} \left(-\frac{2\sqrt{5}}{5}\right)^2 = \frac{8}{5}e^{2(\beta+k\pi)} = \left(\frac{8}{5}e^{2\beta}\right)e^{2k\pi}$$

$$\text{Se } k \rightarrow +\infty, \left(\frac{8}{5}e^{2\beta}\right)e^{2k\pi} \rightarrow +\infty$$

$$\text{Se } k \rightarrow -\infty, \left(\frac{8}{5}e^{2\beta}\right)e^{2k\pi} \rightarrow 0^+$$

I coefficienti angolari nei punti di flesso  $x = \beta + k\pi$  variano al variare di  $k$ , quindi le tangenti inflessionali non formano un fascio di rette parallele.

## Appendice a punto 4

I flessi a tangente obliqua si possono esprimere in forma più compatta osservando che la derivata seconda si annulla quando:

$$\operatorname{sen}(2x)(\operatorname{sen}(2x) + 2 \cos(2x)) = 0, \quad \operatorname{sen}^2(2x) + 2\operatorname{sen}(2x) \cos(2x) = 0$$

che si può scrivere, ponendo  $\cos(2x) \neq 0$  ( quando  $\cos(2x) = 0$  la derivata seconda non si annulla) e dividendo per  $\cos^2(2x)$ , nella forma:

$tg^2(2x) + 2tg(2x) = 0$  che ha come soluzioni:

$tg(2x) = 0$ , da cui  $x = \frac{k\pi}{2}$  (flessi a tangente orizzontale)

$tg(2x) = -2$ , da cui  $2x = \operatorname{arctg}(-2) + k\pi$ ,  $x = -\frac{1}{2}\operatorname{arctg}(2) + \frac{k\pi}{2}$

I punti di flesso a tangente obliqua si possono quindi raggruppare nella forma:

$$x = -\frac{1}{2}\operatorname{arctg}(2) + \frac{k\pi}{2}$$

Da

$$G'(x) = 2e^{2x}\operatorname{sen}^2(2x)$$

otteniamo ora in modo più compatto il coefficiente angolare delle tangenti nei punti di flesso a tangente obliqua, ricordando che (come visto precedentemente)  $\operatorname{sen}(2x) = \pm \frac{2\sqrt{5}}{5}$ , quindi  $\operatorname{sen}^2(2x) = \frac{4}{5}$ :

$$G'(x) = \frac{8}{5} \cdot e^{-\operatorname{arctg}(2)+k\pi}$$

I coefficienti angolari nei punti di flesso a tangente obliqua variano al variare di  $k$ , quindi le tangenti inflessionali non formano un fascio di rette parallele.

Con la collaborazione di Angela Santamaria